

Topikal Kertas 1

SPM 2004 - 2014

PRINSIP PERAKAUNAN

11 Tahun Peperiksaan

E-Book Percuma

Mengandungi nombor halaman
rujukan Buku Teks untuk setiap soalan.

Tingkatan 5

PENAFIAN: Hakcipta soalan di dalam e-book ini adalah milik Lembaga Peperiksaan Malaysia 2004 – 2014. Soalan disusun semula ke bentuk topikal untuk manfaat bersama semua guru dan pelajar Prinsip Perakaunan SPM. Tidak ada sebarang keuntungan diambil daripada penerbitan ini.

BAB 8: PERAKAUNAN UNTUK TUNAI

1. Data 5 menunjukkan belanjawan tunai Kedai Mira bagi bulan Mac 2004.

	RM
Baki awal	12 060
Penerimaan:	
Penghutang	20 000
Pembayaran:	
Pemiutang	19 000
Upah	1 200
Sewa	400
Belanja serahan	300
Elektrik dan telefon	250
Belanja am	320

Data 5

Hitungkan baki akhir tunai kedai itu.

- A Lebihan RM1 470
- B Lebihan RM10 590
- C Kurangan RM1 470
- D Kurangan RM13 530

Rujukan jawapan: buku teks m.s. 295 - Soalan 24 SPM 2004

2. Berikut merupakan situasi dalam Perniagaan Encik Daud.

“Encik Daud menggaji dua orang kerani, seorang ditugaskan untuk merekod Buku Tunai dan seorang lagi untuk mengendalikan tunai”

Apakah tujuan Encik Daud berbuat demikian?

- A Mengelak berlaku pembaziran
- B Mengelak penyalahgunaan tunai
- C Memastikan tunai tidak dipegang terlalu banyak
- D Memastikan perniagaan mempunyai tunai mencukupi

Rujukan jawapan: buku teks m.s. 280 - Soalan 24 SPM 2005

3. Apakah yang menyebabkan baki akhir Buku Tunai berbeza dengan baki Penyata Bank?

- A Penghutang membayar terus ke akaun peniaga di bank
- B Peniaga mendebitkan dividen yang diterima di ruangan bank
- C Penerimaan cek-cek daripada pelanggan telah dikreditkan oleh pihak bank
- D Pembayaran menggunakan cek kepada pemiutang telah didebitkan oleh pihak bank

Rujukan jawapan: buku teks m.s. 282, 283, 284 - Soalan 26 SPM 2006

4. Apakah tujuan Penyata Penyesuaian Bank disediakan?

- A Merekodkan baki Buku Tunai dan baki Penyata Bank
- B Menyelaras baki Buku Tunai dan baki Penyata Bank
- C Mengawal penerimaan dan pembayaran wang dengan cek
- D Menentukan keupayaan bank mengawal aliran keluar masuk wang

Rujukan jawapan: buku teks m.s. 282 - Soalan 23 SPM 2008

5. Maklumat berikut menunjukkan buku tunai (ruangan bank sahaja) dan penyata bank Puan Salmah bagi bulan Januari 2004.

Buku Tunai

Tarikh	Butir	RM	Tarikh	Butir	No. Cek	RM
2004			2004			
Jan 1	Baki b/b	1 880	Jan 5	Belian	020401	1 200
4	Jualan	500	15	Insurans	020402	1 500
9	En. Azad	600	25	Sewa	020403	1 000
31	Baki h/b	720				
		3 700				3 700
				Baki b/b		720

PENYATA BANK					
Puan Salmah Ahmad 125, Jalan Besar 43000 Kajang		BANK KITA BHD		No.Akaun: 05-37783-6	
		4, Jalan Tebrau 43000 Kajang		Tarikh: 03 Februari 2004	
Tarikh	Butir	No. Cek	Wang Keluar (Dt)	Wang Masuk (Kt)	Baki
2004			RM	RM	RM
Jan 1	Baki b/b				1 880
4	Deposit			500	2 380
5	Cek	020401	1 200		1 180
9	Deposit			600	1 780
17	Cek	020402	1 500		280

Perbezaan antara baki buku tunai dan baki penyata bank adalah disebabkan oleh

- A cek tak layan
- B kesilapan di buku tunai
- C cek yang belum dikreditkan
- D cek yang belum dikemukakan

Rujukan jawapan: buku teks m.s. 284, 286 - Soalan 25 SPM 2004

6. Encik Ahmad mendapati baki buku tunai berbeza dengan baki penyata bank. Apakah yang menyebabkan perbezaan baki tersebut?

- I Caj bank
- II Cek yang belum diterima
- III Dividen yang dikreditkan ke bank
- IV Cek yang belum dikemukakan

- A I, II, dan III
- B I, II, dan IV
- C I, III, dan IV
- D II, III, dan IV

Rujukan jawapan: buku teks m.s. 284 - Soalan 24 SPM 2007

7. Data 6 diperoleh daripada buku Pewangi Enterprise.

Buku Tunai (Ruangan Bank)					
		2004 Jan. 5	Angkutan (No. Cek 11011)	RM 272	
Penyata Bank (petikan)					
Tarikh	Butir	No. Cek	Debit	Kredit	Baki
2004 Jan. 10	Cek	11011	RM 222	RM	RM

Data 6

Jumlah angkutan telah tersalah catat dalam buku tunai.

Apakah catatan yang perlu dilakukan dalam buku tunai untuk membetulkan kesilapan itu?

- A Debit RM50
- B Kredit RM50
- C Debit RM222
- D Kredit RM222

Rujukan jawapan: buku teks m.s. 283 - Soalan 25 SPM 2005

8. Encik Rafi bercadang hendak memulakan perniagaan Bengkel Basikal Alang di Kuantan pada 1 Julai 2006.

Data berikut menunjukkan petikan belanjawan tunai Encik Rafi.

Perkara	Julai	Ogos	Sept
Baki b/b			X
Penerimaan:			
Modal	15 000		
Pinjaman	30 000		
Jualan	1 500	7 450	8 195
Jumlah penerimaan	Y	Z	
Pembayaran:			
Belian	18 500	1 340	1 608
Upah	1 200	1 200	1 200
Jumlah pembayaran	19 700	2 540	2 808
Baki h/b	Q		

Berapakah nilai X?

- A RM4 910
- B RM5 387
- C RM26 800
- D RM31 710

Rujukan jawapan: buku teks m.s. 295 - Soalan 27 SPM 2006

9. Apakah tujuan Penyata Penyesuaian Bank disediakan?

- A Merekod semua wang masuk dan wang keluar perniagaan
- B Mengawal penerimaan dan pembayaran wang dengan cek
- C Menentukan keupayaan bank mengawal aliran keluar masuk wang
- D Menyelaras baki Buku Tunai dengan baki Penyata Bank

Rujukan jawapan: buku teks m.s. 282 - Soalan 22 SPM 2009

10. Petikan Penyata Bank dan Buku Tunai berikut diperoleh daripada buku Kedai Win Tee.

Penyata Bank (petikan)

Tarikh	Butir	No. Cek	Wang keluar (Debit)	Wang masuk (Kredit)	Baki
2007 Mac 17		00113	RM	RM 160	RM

Buku Tunai (Ruangan Bank)

2007 Mac 12	Jualan (00113)	RM 610	
----------------	----------------	-----------	--

Maklumat tambahan:

Jumlah jualan tersalah catat dalam Buku Tunai.

Apakah catatan yang perlu dibuat untuk mengemas kini Buku Tunai?

- A Debit RM160
- B Debit RM450
- C Kredit RM450
- D Kredit RM610

Rujukan jawapan: buku teks m.s. 288, 289 - Soalan 24 SPM 2008

11. Maklumat berikut diperoleh daripada sebuah perniagaan.

Zaman ingin menyediakan Belanjawan Tunai perniagannya untuk tempoh tiga bulan berakhir 31 Disember 2008. Jualan dianggarkan berjumlah RM20 000 setiap bulan di mana 40% daripadanya diberi tempoh kredit.

Berapakah anggaran jualan tunai pada bulan November?

- A RM28 000
- B RM20 000
- C RM12 000
- D RM8 000

Soalan 25 SPM 2008

12. Apakah yang dimaksudkan dengan belanjawan?

- A Satu sistem yang mengandungi prosedur untuk mengawal penerimaan dan pembayaran tunai
- B Satu penyata yang digunakan untuk merekod urus niaga penerimaan dan pembayaran tunai
- C Satu penyata yang disediakan untuk memastikan tunai perniagaan sentiasa mencukupi
- D Satu anggaran penerimaan dan pembayaran tunai dalam sesuatu tempoh tertentu

Rujukan jawapan: buku teks m.s. 294 - Soalan 23 SPM 2009

13. Apakah fungsi belanjawan tunai kepada peniaga?

- A Menunjukkan keadaan sebenar kewangan perniagaan
- B Menunjukkan kedudukan anggaran tunai pada masa hadapan
- C Menjadi panduan kepada pemiutang untuk menuntut hutang
- D Membantu peniaga mengehadkan perbelanjaan semasa

Rujukan jawapan: buku teks m.s. 294 - Soalan 25 SPM 2009

14. Butiran manakah yang diambil kira dalam penyediaan belanjawan tunai?

- I Pinjaman bank
- II Kadar bayaran
- III Peruntukan hutang ragu
- IV Susut nilai alatan pejabat

- A I dan II
- B I dan IV
- C II dan III
- D III dan IV

Rujukan jawapan: buku teks m.s. 294 - Soalan 24 SPM 2009

15. Maklumat berikut diperolehi daripada Syarikat Gemilang Sendirian Berhad.

	RM
Baki Buku Tunai (Overdraf)	12 800
Cek belum dikemukakan	1 240
Deposit belum dikreditkan	835

Berapakah baki akhir Penyata Bank?

- A RM12 395
- B RM(12 395)
- C RM13 205
- D RM(13 205)

Rujukan jawapan: buku teks m.s. 291 - Soalan 19 SPM 2010

16. Anggaran belian berikut dimiliki oleh Perniagaan Wawasan.

	RM
Januari	1 800
Februari	2 000
Maklumat tambahan:	
60 % daripada belian adalah secara tunai dan bakinya dibayar pada bulan berikutnya.	

Berapakah bayaran pada bulan Februari?

- A RM2 280
- B RM2 000
- C RM1 920
- D RM1 200

Soalan 20 SPM 2010

17. Butir manakah direkodkan sebagai perbelanjaan dalam belanjawan tunai?

- A Susut nilai
- B Jualan tunai
- C Hutang lapuk
- D Bayar sewa kedai

Rujukan jawapan: buku teks m.s. 294 - Soalan 24 SPM 2011

18. Belanjawan tunai berikut diambil daripada sebuah perniagaan.

Belanjawan Tunai
Bagi Dua Bulan Berakhir 28 Februari 2011

Butir	Januari	Februari
	RM	RM
Baki b/b	5 000	Q
Jualan	10 000	12 000
Pinjaman bank		5 000
	10 000	17 000
Belian	6 000	7 000
Sewa	500	500
	6 500	7 500
Baki h/b	P	R

Berapakah nilai **Q**?

- A RM3 500
- B RM5 000
- C RM6 500
- D RM8 500

Rujukan jawapan: buku teks m.s. 295 - Soalan 21 SPM 2010

19. Penyata Penyesuaian Bank berikut diperoleh daripada sebuah perniagaan.

Penyata Penyesuaian Bank pada 30 September 2012

	RM	RM
R		(200)
Tambah : Cek belum dikemukakan	1000	
Dividen	300	
	<u>1300</u>	
		1300
		<u>1 100</u>
Tolak : Deposit belum dikreditkan	700	
Caj bank	20	
	<u>720</u>	
		720
S		<u>380</u>

Apakah **R** dan **S**?

	R	S
A	Baki debit di Buku Tunai	Baki debit di Penyata Bank
B	Baki debit di Penyata Bank	Baki debit di Buku Tunai
C	Baki kredit di Penyata Bank	Baki kredit di Buku Tunai
D	Baki kredit di Buku Tunai	Baki kredit di Penyata Bank

Rujukan jawapan: buku teks m.s. 289, 291 - Soalan 21 SPM 2012

20. Antara yang berikut, yang manakah butir pembayaran dalam Belanjawan Tunai Kedai Buku Lestari?

- A Modal tambahan
- B Susut nilai mesin fotostat
- C Faedah atas pinjaman bank
- D Kutipan daripada penghutang

Rujukan jawapan: buku teks m.s. 294 - Soalan 20 SPM 2013

- 21.** Antara yang berikut, yang manakah fungsi penyediaan Belanjawan Tunai?
- I Menguukur kemampuan tunai perniagaan
 - II Sebagai alat kawalan aliran tunai perniagaan
 - III Jaminan perniagaan memperoleh pembiayaan bank
 - IV Membandingkan prestasi perniagaan semasa dengan yang lepas
- A** I dan II
B I dan IV
C II dan III
D III dan IV

Rujukan jawapan: buku teks m.s. 294 - Soalan 19 SPM 2013

- 22.** Apakah belanjawan tunai?
- A** Buku rekod wang masuk dan keluar serta baki di tangan
 - B** Laporan wang yang diterima dan dibayar bagi tempoh tertentu
 - C** Anggaran penerimaan dan pembayaran tunai untuk sesuatu tempoh
 - D** Jumlah hasil yang diterima dan belanja yang dibayar untuk mengurus perniagaan

Rujukan jawapan: buku teks m.s. 294 - Soalan 18 SPM 2014

- 23.** Pilih butiran yang direkod dalam Buku Tunai yang menyebabkan berlakunya perbezaan antara baki Buku Tunai dengan baki Penyata Bank.
- I Pindahan kredit
 - II Faedah atas overdraf
 - III Cek belum dikemukakan
 - IV Deposit belum dikreditkan
- A** I dan II
B I dan IV
C II dan III
D III dan IV

Rujukan jawapan: buku teks m.s. 283, 284 - Soalan 19 SPM 2014

BAB 9: PERAKAUNAN UNTUK PENGGAJIAN

1. Antara yang berikut, yang manakah **bukan** kaedah pembayaran gaji?
- A Cek
 - B Tunai
 - C Bayaran automatik
 - D Slip pindahan wang

Rujukan jawapan: buku teks m.s. 314, 315 - Soalan 23 SPM 2012

2. Puan Zalikha menerima gaji pokok sebanyak RM5 000 sebulan. Elaun dan potongannya setiap bulan adalah seperti berikut:

	RM
Elaun perumahan	600
Elaun perjalanan	500
Caruman KWSP - majikan	732
Caruman KWSP - pekerja	671

Berapakah gaji bersihnya?

- A RM4 697
- B RM4 929
- C RM5 368
- D RM5 429

Rujukan jawapan: buku teks m.s. 324, 325 - Soalan 21 SPM 2013

3. Pengurus manakah yang bertanggungjawab dalam mengurus hal penggajian dalam sesebuah organisasi?
- A Operasi
 - B Kewangan
 - C Pemasaran
 - D Sumber manusia

Rujukan jawapan: buku teks m.s. 316 - Soalan 20 SPM 2014

BAB 10: PERKONGSIAN

1. Antara berikut, yang manakah menyebabkan pembubaran perkongsian?
- I Seorang daripada rakan kongsi diisytiharkan muflis
 - II Seorang daripada rakan kongsi telah meninggal dunia
 - III Mahkamah memerintahkan supaya perkongsian tersebut dibubarkan
 - IV Seorang daripada rakan kongsi mendapat kerugian daripada perkongsian tersebut

- A I, II dan III
- B I, II dan IV
- C I, III dan IV
- D II, III dan IV

Rujukan jawapan: buku teks m.s. 338 - Soalan 26 SPM 2004

2. Antara berikut, yang manakah menunjukkan akaun semasa pekongsi yang tepat?

A

Akaun Semasa Pekongsi			
	RM		RM
Ambilan	100	Faedah atas ambilan	30
Gaji pekongsi	500	Faedah atas modal	400
Pembahagian rugi	200	Faedah atas pinjaman	50

B

Akaun Semasa Pekongsi			
	RM		RM
Ambilan	100	Faedah atas ambilan	50
Gaji pekongsi	500	Faedah atas modal	400
Faedah atas pinjaman (pekongsi)	50	Pembahagian rugi	200

C

Akaun Semasa Pekongsi			
	RM		RM
Gaji pekongsi	500	Faedah atas ambilan	30
Faedah atas modal	400	Ambilan	100
Faedah atas pinjaman (pekongsi)	50	Pembahagian rugi	200

D

Akaun Semasa Pekongsi			
	RM		RM
Ambilan	500	Gaji pekongsi	500
Faedah atas ambilan	400	Faedah atas modal	400
Pembahagian rugi	50	Faedah atas pinjaman (pekongsi)	50

Rujukan jawapan: buku teks m.s. 343 - Soalan 27 SPM 2004

3. Apakah butiran yang direkodkan di sebelah debit dalam akaun semasa pekongsi?

- A Gaji pekongsi
- B Kongsi Untung
- C Faedah Atas Modal
- D Faedah Atas Ambilan

Rujukan jawapan: buku teks m.s. 343 - Soalan 28 SPM 2006

4. Ali adalah rakan kongsi di dalam satu perkongsian. Beliau menerima gaji tahunan sebanyak RM5 000. Pada pertengahan tahun, beliau telah dibayar gaji sebanyak RM3 000.

Antara catatan berikut, yang manakah merujuk kepada pernyataan di atas?

	Debit	RM	Kredit	RM
A	Akaun Pengasingan Untung Rugi	2 000	Akaun Semasa Ali	3 000
B	Akaun Pengasingan Untung Rugi	5 000	Akaun Semasa Ali	2 000
C	Akaun Pengasingan Untung Rugi	5 000	Akaun Modal Ali	3 000
D	Akaun Pengasingan Untung Rugi	3 000	Akaun Modal Ali	2 000

Rujukan jawapan: buku teks m.s. 350 - Soalan 28 SPM 2004

5. Antara berikut, yang manakah terdapat dalam Kunci Kira-kira suatu perkongsian?
- I Aset Semasa
 - II Liabiliti Bukan Semasa
 - III Untung Bersih ahli kongsi;
 - IV Akaun Semasa ahli kongsi
- A I, II dan III
 B I, II dan IV
 C I, III dan IV
 D II, III dan IV

Rujukan jawapan: buku teks m.s. 359 - Soalan 29 SPM 2004

6. Data 7 diperoleh daripada buku perkongsian Radzi dan Khalid pada 31 Disember 2004.

	RM
Untung bersih	4 000
Faedah atas ambilan	60
Faedah atas modal	1 500

Data 7

Untung atau rugi perkongsian dibahagi sama rata antara dua orang pekongsi tersebut. Hitungkan bahagian untung setiap pekongsi itu.

- A RM1 220
 B RM1 280
 C RM2 560
 D RM2 720

Rujukan jawapan: buku teks m.s. 357 - Soalan 26 SPM 2005

7. Jumlah aset sebuah perkongsian ialah RM38 000 dan jumlah liabilitinya ialah RM4 200. Dalam proses realisasi, semua aset direalis sebanyak RM32 000. Belanja realisasi berjumlah RM500. Hitungkan rugi realisasi.

- A RM5 500
 B RM6 500
 C RM10 200
 D RM10 700

Rujukan jawapan: buku teks m.s. 363 - Soalan 27 SPM 2005

8. Encik Rahim mengambil alih kenderaan bernilai RM16 000 apabila perkongsiannya dibubarkan. Tentukan catatan di Jurnal Am yang betul bagi merekod pengambilalihan tersebut.

A

Butir	Debit (RM)	Kredit (RM)
Kenderaan	16 000	
Realisasi		16 000

B

Butir	Debit (RM)	Kredit (RM)
Realisasi	16 000	
Kenderaan		16 000

C

Butir	Debit (RM)	Kredit (RM)
Realisasi	16 000	
Modal Rahim		16 000

D

Butir	Debit (RM)	Kredit (RM)
Modal Rahim	16 000	
Realisasi		16 000

Rujukan jawapan: buku teks m.s. 363 - Soalan 28 SPM 2005

9. Apakah yang menyebabkan berlaku kekurangan dalam akaun modal pekongsi?

- A Sumbangan modal pekongsi yang tinggi
- B Pekongsi membuat ambilan yang sedikit
- C Nilai aset yang diambil alih terlalu rendah
- D Pekongsi terpaksa menanggung rugi realisasi

Rujukan jawapan: buku teks m.s. 370 - Soalan 29 SPM 2006

10. Yahya dan Fatimah adalah pekongsi dalam Perkongsian Yatim. Mereka berkongsi untung atau rugi dengan nisbah 2 : 1 . Maklumat berikut diperolehi daripada buku Perkongsian Yatim.

Akaun Pengasingan Untung Rugi bagi Tahun Berakhir 30 Jun 2006					
	RM	RM		RM	RM
Faedah Atas Modal:			Untung bersih		12 000
Yahya	2 000		Faedah atas ambilan		
Fatimah	1 000		Yahya	50	
	3 000		Fatimah	70	
Gaji Fatimah		6 000			120
		6 000			120

Hitung pembahagian untung atau rugi pekongsi.

	Yahya	Fatimah
A	Rugi RM1 040	Rugi RM2 080
B	Rugi RM2 080	Rugi RM1 040
C	Untung RM2 080	Untung RM1 040
D	Untung RM1 040	Untung RM2 080

Rujukan jawapan: buku teks m.s. 356, 357 - Soalan 30 SPM 2006

11. Maklumat berikut diperolehi daripada Akaun Semasa Stepheni.

	RM
Baki pada 1 Januari 2006	520
Faedah atas modal	840
Ambilan	1 200
Faedah atas ambilan	60
Kongsi untung	2 400

Berapakah baki akhir akaun tersebut?

- A RM3 700
- B RM2 500
- C RM1 580
- D RM1 460

Rujukan jawapan: buku teks m.s. 343 - Soalan 25 SPM 2007

12. Petikan Akaun Pengasingan Untung Rugi berikut diperolehi daripada perkongsian Ahmad dan Borhan. Mereka bersetuju membahagikan untung dan rugi mengikut nisbah 2 : 1 .

Akaun Pengasingan Untung Rugi bagi tahun berakhir 31 Mac 2007			
	RM		RM
Faedah atas modal:		Untung bersih	21 500
Ahmad	3 500		
Borhan	3 000		
Kongsi untung:			
Ahmad			
Borhan			

Berapakah untung yang Ahmad peroleh?

- A RM5 000
- B RM10 000
- C RM15 000
- D RM21 500

Rujukan jawapan: buku teks m.s. 356, 357 - Soalan 26 SPM 2007

13. Pilih susunan yang betul tentang perekodan pembubaran perkongsian.

- I Membayar belanja realisasi
- II Menutup dan mengimbang Akaun Realisasi
- III Menutup dan memindahkan semua aset. (kecuali bank) ke Akaun Realisasi
- IV Merekod penerimaan daripada jualan aset dan bayaran daripada penghutang

- A I, II, III, IV
- B II, III, IV, I
- C III, IV, I, II
- D IV, I, II, III

Rujukan jawapan: buku teks m.s. 361, 362 - Soalan 27 SPM 2007

14. Maklumat berikut diperoleh daripada Perkongsian Aziz dan Azizah.

Modal Aziz pada 1 Januari 2007 ialah RM14 000. Pada 1 Julai 2007, Aziz membawa masuk modal tambahan sebanyak RM3 000. Faedah atas modal adalah 4% setahun. Tahun kewangan berakhir pada 31 Disember setiap tahun.

Berapakah faedah atas modal Aziz?

- A RM120
- B RM560
- C RM620
- D RM680

Rujukan jawapan: buku teks m.s. 346, 347 - Soalan 26 SPM 2008

15. Petikan Akaun Realisasi berikut diperoleh semasa pembubaran Perkongsian Nora dan Suri.

Akaun Realisasi

	2007	RM
Jan. 31 Pemiutang	300	
(Diskaun diterima)		

Apakah yang dimaksudkan dengan catatan pada 31 Januari?

- A Baki pemiutang yang belum dijelaskan semasa pembubaran
- B Menerima diskaun daripada pemiutang kerana menjelaskan hutang semasa pembubaran
- C Jumlah bayaran kepada pemiutang semasa pembubaran selepas menolak diskaun tunai
- D Jumlah bayaran yang dibuat kepada pemiutang semasa pembubaran sebelum menolak diskaun diterima

Rujukan jawapan: buku teks m.s. 362, 363, 367 - Soalan 27 SPM 2008

16. Butiran manakah yang direkod di bahagian kredit Akaun Semasa perkongsi?

- A Faedah atas pinjaman
- B Faedah atas ambilan
- C Kongsi rugi
- D Ambilan

Rujukan jawapan: buku teks m.s. 343 - Soalan 26 SPM 2009

17. Butiran manakah yang didebitkan ke Akaun Pengasingan Untung Rugi?

- A Faedah atas modal, gaji perkongsi dan ambilan
- B Faedah atas modal, gaji perkongsi dan bonus perkongsi
- C Faedah atas pinjaman, gaji perkongsi dan untung bersih
- D Faedah atas pinjaman, faedah atas ambilan dan bonus perkongsi

Rujukan jawapan: buku teks m.s. 354, 356 - Soalan 27 SPM 2009

18. Apakah butiran yang terdapat dalam ekuiti pemilik perkongsian?

- A Ambilan
- B Untung bersih
- C Akaun semasa
- D Faedah atas modal

Rujukan jawapan: buku teks m.s. 358 - Soalan 22 SPM 2010

19. Butiran manakah yang terdapat dalam akaun semasa pekongsi?

- I Modal
 - II Gaji pekerja
 - III Faedah atas modal
 - IV Faedah atas ambilan
- A I dan II
 B I dan IV
 C II dan III
 D III dan IV

Rujukan jawapan: buku teks m.s. 343 - Soalan 23 SPM 2010

20. Maklumat berikut diperolehi daripada buku Perkongsian Mulia.

	RM
Modal Murni	30 000
Modal Alin	40 000
Faedah atas modal	5% setahun
Alin membawa masuk modal tambahan pada 1 Oktober 2009 sebanyak RM2 000.	

Berapakah jumlah faedah atas modal Alin bagi tempoh perakaunan berakhir 31 Disember 2009?

- A RM350
 B RM525
 C RM2 025
 D RM2 100

Rujukan jawapan: buku teks m.s. 346, 347 - Soalan 24 SPM 2010

21. Akaun manakah yang tidak akan dipindahkan ke Akaun Realisasi?

- A Akaun Stok
 B Akaun Bank
 C Akaun Perabot
 D Akaun Penghutang

Rujukan jawapan: buku teks m.s. 362 - Soalan 25 SPM 2010

22. Apakah butiran yang **tidak** dimasukkan dalam Akaun Pengasingan Untung Rugi?

- A Faedah atas pinjaman
 B Faedah atas ambilan
 C Faedah atas modal
 D Gaji pekongsi

Rujukan jawapan: buku teks m.s. 354 - Soalan 25 SPM 2011

23. Apakah butiran yang direkodkan dalam Akaun Pengasingan Untung Rugi?

- A Ambilan
 B Gaji terakru
 C Faedah atas ambilan
 D Faedah atas pinjaman

Rujukan jawapan: buku teks m.s. 354 - Soalan 24 SPM 2012

24. Akaun Realisasi berikut diperoleh daripada buku sebuah perniagaan.

Akaun Realisasi	
	RM
Bank	1 000

Urus niaga manakah yang merujuk kepada catatan tersebut?

- A Pembayaran kepada pemiutang
- B Perolehan daripada penjualan perabot
- C Penerimaan diskaun kerana menjelaskan hutang
- D Pembayaran belanja realisasi

Rujukan jawapan: buku teks m.s. 363 - Soalan 26 SPM 2011

25. Maklumat berikut diperoleh daripada buku sebuah perkongsian.

	RM
Jumlah aset	45 000
Jumlah liabiliti	8 400

Dalam proses pembubaran, semua aset dijual sebanyak RM42 000. Belanja realisasi RM850 manakala liabiliti dijelaskan sepenuhnya.

Berapakah rugi realisasi?

- A RM2 150
- B RM3 850
- C RM4 550
- D RM5 400

Rujukan jawapan: buku teks m.s. 363 - Soalan 27 SPM 2011

26. Apakah dokumen yang perlu dirujuk oleh pekongsi sekiranya tiada sebarang perjanjian dibuat semasa menubuhkan perniagaan mereka?

- A Ikatan Perkongsian
- B Perjanjian Perkongsian
- C Akta Perkongsian 1961
- D Akta Pendaftaran Perniagaan 1956

Rujukan jawapan: buku teks m.s. 339 - Soalan 25 SPM 2012

27. Butiran manakah yang **tidak** terdapat dalam akaun semasa pekongsi?

- A Modal
- B Ambilan
- C Faedah atas modal
- D Faedah atas ambilan

Rujukan jawapan: buku teks m.s. 343 - Soalan 26 SPM 2012

28. Yahya dan Musa merupakan rakan kongsi dalam Perkongsian Muafakat. Maklumat berikut diperolehi daripada buku perniagaan mereka pada 31 Disember 2011.

	RM
Gaji tahunan Yahya	8 000
Gaji belum dibayar kepada Yahya	5 000

Berapakah gaji yang direkod dalam Akaun Semasa Yahya?

- A RM3 000
- B RM5 000
- C RM8000
- D RM13 000

Rujukan jawapan: buku teks m.s. 350 - Soalan 27 SPM 2012

29. Ruangan Ekuiti Pemilik dalam Kunci Kira-kira perkongsian mencatatkan

- I pengambilan rakan kongsi
- II keuntungan rakan kongsi
- III akaun modal rakan kongsi
- IV akaun semasa rakan kongsi

- A I dan II
- B I dan IV
- C II dan III
- D III dan IV

Rujukan jawapan: buku teks m.s. 358 - Soalan 32 SPM 2012

30. Maklumat berikut diperolehi daripada Perkongsian Two Ah yang dimiliki oleh Ahmad dan Ah Seng.

	RM
Untung bersih	15 800
Faedah atas modal	1 200
Faedah atas pengambilan	2 300
Untung dibahagi sama rata	

Berapakah kongsi untung bagi setiap perkongsian?

- A RM6 150
- B RM7 350
- C RM8 450
- D RM9 650

Rujukan jawapan: buku teks m.s. 356, 357 - Soalan 22 SPM 2013

31. Butir manakah yang dicatat di bahagian Ekuiti Pemilik Kunci Kira-kira sebuah perniagaan perkongsian?

- A Untung bersih
- B Modal tambahan
- C Pinjaman perkongsian
- D Akaun Semasa perkongsian

Rujukan jawapan: buku teks m.s. 358 - Soalan 23 SPM 2013

32. Apakah kesan terhadap perniagaan jika salah seorang rakan kongsi meninggal dunia?
- A Perlu dibubarkan
 - B Boleh diambil alih oleh waris si mati
 - C Boleh diteruskan oleh rakan kongsi yang sedia ada
 - D Perlu menukar milikan perniagaan kepada milikan tunggal

Rujukan jawapan: buku teks m.s. 338 - Soalan 24 SPM 2013

33. Butir manakah yang direkod di sebelah kredit Akaun Semasa pekongsi?
- I Faedah atas ambilan
 - II Faedah atas modal
 - III Gaji pekongsi
 - IV Kongsi rugi
- A I dan II
 - B I dan IV
 - C II dan III
 - D III dan IV

Rujukan jawapan: buku teks m.s. 343 - Soalan 25 SPM 2013

34. Pernyataan manakah yang menunjukkan ciri sebuah milikan perkongsian?
- A Hayat perniagaan tamat apabila salah seorang pekongsi meninggal dunia
 - B Bilangan ahli maksimum 20 orang bagi semua jenis perkongsian
 - C Keuntungan diagihkan kepada pekongsi dalam bentuk dividen
 - D Cukai dikenakan ke atas pendapatan perniagaan

Rujukan jawapan: buku teks m.s. 338 - Soalan 21 SPM 2014

35. Kenderaan diambil alih oleh pekongsi semasa pembubaran.
Apakah akaun yang terlibat kesan daripada urus niaga di atas?

	Debit	Kredit
A	Akaun Kenderaan	Akaun Realisasi
B	Akaun Realisasi	Akaun Kenderaan
C	Akaun Modal Pekongsi	Akaun Realisasi
D	Akaun Realisasi	Akaun Modal Pekongsi

Rujukan jawapan: buku teks m.s. 362 - Soalan 22 SPM 2014

36. Pernyataan manakah yang menyebabkan akaun modal berbaki debit pada tarikh pembubaran?
- I Ambilan yang banyak
 - II Sumbangan modal yang besar
 - III Nilai aset yang diambil alih rendah
 - IV Rugi realisasi melebihi jumlah modal
- A I dan II
 - B I dan IV
 - C II dan III
 - D III dan IV

Rujukan jawapan: buku teks m.s. 370 - Soalan 25 SPM 2014

37. Perkongsian Tania dan Rania memberikan maklumat berikut pada 30 September 2014.

	Tania
	RM
Kongsi untung	8 000
Ambilan	1 500
Faedah atas modal	4 000

Berapakah baki akhir Akaun Semasa Tania?

- A RM2 500
- B RM5 500
- C RM10 500
- D RM13 500

Rujukan jawapan: buku teks m.s. 343- Soalan 23 SPM 2014

38. Jadual berikut menunjukkan ambilan yang dilakukan oleh rakan kongsi Perkongsian ADNI yang berkongsi untung atau rugi secara sama rata.

Nama	Tarikh Ambilan	
	1 April 2013	1 Julai 2013
	RM	RM
Adnan	1000	300
Sani	1800	-

Maklumat tambahan:
 Faedah atas ambilan 10 % setahun
 Tempoh perakaunan 1 Januari - 31 Disember

Berapakah faedah atas ambilan setiap rakan kongsi?

	Adnan	Sani
	RM	RM
A	180	130
B	130	180
C	90	135
D	135	90

Rujukan jawapan: buku teks m.s. 347, 348 - Soalan 24 SPM 2014

BAB 11: SYARIKAT BERHAD

1. Modal dibenarkan bagi Syarikat Nilam Sari Berhad terdiri daripada 2 000 000 saham biasa bernilai RM1 setiap unit. Syarikat ini telah menerbitkan 1 500 000 saham biasa kepada orang awam pada nilai tara. Semua saham yang diterbitkan telah dipohon beli dan berbayar.

Hitungkan modal berbayar Syarikat Nilam Sari Berhad.

- A RM500 000
- B RM1 500 000
- C RM2 000 000
- D RM4 500 000

Rujukan jawapan: buku teks m.s. 395, 396 - Soalan 30 SPM 2004

2. Antara pernyataan berikut, yang manakah **bukan** ciri-ciri syarikat awam berhad?
- A Modal terdiri daripada saham yang dipegang oleh pemiliknya
 - B Ditubuhkan sebagai satu badan yang berasingan daripada pemiliknya
 - C Keuntungan diagihkan di antara pemegang saham dalam bentuk dividen
 - D Bilangan pemegang saham adalah di antara 2 hingga 50 orang

Rujukan jawapan: buku teks m.s. 390 - Soalan 31 SPM 2004

3. Pada 1 April 2003, Anand telah membeli 2 000 unit 6% syer keutamaan RM2 seunit daripada Syarikat Maya Berhad. Lembaga Pengarah syarikat telah memutuskan perkara-perkara berikut:

- (i). membayar dividen interim 2% pada 1 Oktober 2003
- (ii). mengisytiharkan dividen akhir pada 31 Mac 2004

Hitungkan jumlah dividen akhir yang akan diterima oleh Anand.

- A RM80
- B RM120
- C RM160
- D RM240

Rujukan jawapan: buku teks m.s. 406 - Soalan 32 SPM 2004

4. Antara berikut, pernyataan manakah **benar** tentang syarikat awam berhad?
- I Saham disenaraikan di bursa saham
 - II Saham diterbitkan kepada orang ramai
 - III Saham tidak boleh dipindah milik dengan bebas
 - IV Bilangan pemegang saham antara 2 hingga 50 orang
- A I dan II
 - B I dan IV
 - C II dan III
 - D III dan IV

Rujukan jawapan: buku teks m.s. 390 - Soalan 29 SPM 2005

5. Maklumat berikut berkaitan dengan Syarikat Jaya Berhad.

Modal Berdaftar:

35 000 unit 10% saham keutamaan RM2 sesaham
 50 000 unit saham biasa RM1 sesaham

Lembaga Pengarah membuat keputusan untuk menerbitkan separuh saham keutamaannya dan 30 000 unit saham biasa. Hitungkan modal belum diterbitkan.

- A RM50 000
- B RM55 000
- C RM65 000
- D RM70 000

Rujukan jawapan: buku teks m.s. 395 - Soalan 30 SPM 2005

6. Antara berikut, jenis modal yang manakah disenaraikan di bawah Ekuiti Pemilik?

- I Modal belum diterbitkan
- II Modal dibenarkan
- III Modal diterbitkan
- IV Modal berbayar

- A I, II dan III
- B I, II dan IV
- C I, III dan IV
- D II, III dan IV

Rujukan jawapan: buku teks m.s. 409 - Soalan 31 SPM 2005

7. Data 8 diperoleh daripada Syarikat Teratai Berhad pada 31 Mei 2005.

Modal dibenarkan:	RM
3 000 000 unit 10% saham keutamaan RM1 sesaham	3 000 000
5 000 000 unit saham biasa RM0.50 sesaham	2 500 000
	5 500 000
Modal diterbitkan dan berbayar:	RM
800 000 unit 10% saham keutamaan	800 000
P	1 500 000
	2 300 000

Data 8

Nyatakan P?

- A 1 500 000 unit saham biasa RM1 sesaham
- B 3 000 000 unit saham biasa RM0.50 sesaham
- C 1 500 000 unit 10% saham keutamaan RM1 sesaham
- D 3 000 000 unit 10% saham keutamaan RM0.50 sesaham

Rujukan jawapan: buku teks m.s. 409 - Soalan 32 SPM 2005

8. Modal yang dinyatakan dalam Tatawujud Syarikat ialah

- A modal berbayar
- B modal diterbitkan
- C modal dibenarkan
- D modal belum diterbitkan

Rujukan jawapan: buku teks m.s. 391 - Soalan 31 SPM 2006

9. Berikut ialah petikan Kunci Kira-kira Syarikat Harmoni Berhad pada 31 Disember 2005.

Kunci Kira-kira pada 31 Disember 2005

EKUITI PEMILIK	
X	RM
500 000 8 % saham keutamaan RM2.00 sesaham	1 000 000
4 000 000 saham biasa RM1.00 sesaham	4 000 000
	<u>5 000 000</u>
Y	
400 000 8 % saham keutamaan RM2.00 sesaham	800 000
2 000 000 saham biasa RM1.00 sesaham	2 000 000
	<u>2 800 000</u>

	X	Y
A	Modal dibenar	Modal belum diterbitkan
B	Modal berbayar	Modal dibenarkan
C	Modal dibenar	Modal diterbitkan dan berbayar penuh
D	Modal diterbitkan dan berbayar penuh	Modal diterbitkan

Rujukan jawapan: buku teks m.s. 409 - Soalan 32 SPM 2006

10. Maklumat berikut diperolehi daripada Syarikat Perkasa Berhad bagi tahun berakhir 31 Disember 2005.

700 000 unit saham biasa bernilai RM1.00 sesaham.

300 000 unit 6% saham keutamaan bernilai RM1.00 sesaham.

Lembaga Pengarah mengisytiharkan dividen saham biasa sebanyak 25 sen sesaham.

Berapakah jumlah dividen saham biasa?

- A** RM1 000 000
- B** RM700 000
- C** RM400 000
- D** RM175 000

Rujukan jawapan: buku teks m.s. 405 - Soalan 33 SPM 2006

11. Apakah bentuk keuntungan syarikat berhad yang akan diagihkan kepada pemegang sahamnya?

- A** Bonus
- B** Faedah
- C** Komisen
- D** Dividen

Rujukan jawapan: buku teks m.s. 403 - Soalan 29 SPM 2008

12. Pernyataan yang manakah berkaitan dengan modal berdaftar?

- I Modal yang dinyatakan dalam Tatawujud Syarikat
- II Jumlah modal maksimum boleh diterbitkan
- III Modal dibenarkan
- IV Modal berbayar

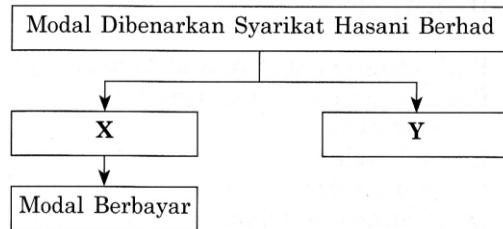
- A** I, II, dan III
- B** I, II, dan IV
- C** I, III, dan IV
- D** II, III dan IV

Rujukan jawapan: buku teks m.s. 394 - Soalan 28 SPM 2007

13. Modal dibenarkan bagi Syarikat Jaya Berhad terdiri daripada 2 500 000 unit saham biasa bernilai RM0.80 sesaham. Syarikat telah menerbitkan 1 800 000 unit saham biasa kepada orang awam pada nilai tara dan membayar penuh.
Berapakah modal belum diterbitkan?
- A RM560 000
 - B RM1 440 000
 - C RM2 000 000
 - D RM3 440 000

Rujukan jawapan: buku teks m.s. 395 - Soalan 29 SPM 2007

14. Rajah 1 menunjukkan jenis modal syarikat berhad.



Rajah 1

Apakah X dan Y?

	X	Y
A	Modal Diterbitkan	Modal Belum Diterbitkan
B	Modal Diterbitkan	Modal Berdaftar
C	Modal Belum Diterbitkan	Modal Diterbitkan
D	Modal Berdaftar	Modal Belum Diterbitkan

Rujukan jawapan: buku teks m.s. 394 - Soalan 28 SPM 2008

15. Apakah jenis keuntungan yang diagihkan kepada pemegang saham syarikat?
- A Faedah
 - B Debentur
 - C Dividen
 - D Bonus

Rujukan jawapan: buku teks m.s. 403 - Soalan 28 SPM 2009

16. Pada 13 Mac 2007, Syarikat Cermin Berhad menerbitkan 1 000 000 saham biasa RM1.00 sesaham kepada orang ramai pada nilai tara. Pemohon dikehendaki membayar penuh semasa permohonan. Pada tarikh tutup permohonan 27 Mac 2007, jumlah wang yang diterima RM1 000 000.

Pilih catatan yang tepat untuk merekod urus niaga pada 27 Mac 2007.

	Debit	Kredit
A	Modal Saham Biasa	Bank
B	Modal Saham Biasa	Permohonan
C	Permohonan	Bank
D	Bank	Permohonan

Rujukan jawapan: buku teks m.s. 398 - Soalan 30 SPM 2008

17. Apakah jenis modal yang dinyatakan dalam Tatawujud Syarikat?

- A Modal Berdaftar
- B Modal Berbayar
- C Modal Diterbitkan
- D Modal Belum Diterbitkan

Rujukan jawapan: buku teks m.s. 391 - Soalan 26 SPM 2010

18. Pernyataan manakah yang menerangkan ciri saham biasa?

- A Kadar dividen tidak tetap
- B Dividen dibayar terlebih dahulu
- C Berhak menerima tunggakan dividen
- D Kadar dividen dinyatakan dalam Tatawujud Syarikat

Rujukan jawapan: buku teks m.s. 397 - Soalan 27 SPM 2010

19. Maklumat berikut berkaitan dengan modal saham biasa Syarikat Wawasan Berhad.

Modal Dibenarkan	Modal Diterbitkan	Nilai Tara Sesaham
1 000 000 unit	750 000 unit	RM0.50

Berapakah jumlah modal berbayar?

- A RM125 000
- B RM375 000
- C RM500 000
- D RM875 000

Rujukan jawapan: buku teks m.s. 395, 396 - Soalan 28 SPM 2010

20. Apakah modal yang dinyatakan dalam Tatawujud Syarikat?

- A Modal dibenarkan
- B Modal diterbitkan
- C Modal berbayar
- D Modal belum diterbitkan

Rujukan jawapan: buku teks m.s. 391 - Soalan 28 SPM 2011

21. Maklumat berikut diperoleh daripada Syarikat Nilam Zamrud Berhad.

- Modal berbayar terdiri daripada 200 000 unit 6% saham keutamaan bernilai RM1.00 sesaham.
- Pada 1 Julai 2009 syarikat telah mengisytiharkan dividen saham keutamaan pada kadar 4%.
- Bagi tahun berakhir 31 Disember 2009, syarikat telah memutuskan untuk membayar dividen akhir saham keutamaan.

Berapakah dividen akhir?

- A RM4 000
- B RM8 000
- C RM12 000
- D RM20 000

Rujukan jawapan: buku teks m.s. 406 - Soalan 29 SPM 2010

22. Berikut adalah petikan Kunci Kira-kira Syarikat Nuri Berhad pada 31 Disember 2009.

Kunci Kira-kira Syarikat Nuri Berhad Pada 31 Disember 2009		
	Modal didaftarkan	RM
	5 000 000 unit 5% saham keutamaan RM1 sesaham	500 000
	1 500 000 unit saham biasa RM1 sesaham	1 500 000
		2 000 000
	Modal diterbitkan	
	200 000 unit 5% saham keutamaan RM1 sesaham	200 000
	1 000 000 unit saham biasa RM1 sesaham	1 000 000
		1 200 000

Berapakah modal belum diterbitkan saham biasa?

- A RM300 000
- B RM500 000
- C RM800 000
- D RM1 000 000

Rujukan jawapan: buku teks m.s. 395 - Soalan 30 SPM 2010

23. Pernyataan manakah yang menerangkan ciri saham biasa?

- A Boleh menerima dividen tertunggak
- B Kadar dividen bergantung kepada keuntungan syarikat
- C Tuntutan ke atas aset didahulukan jika berlaku pembubaran
- D Pemegang saham tidak berhak mengundi dalam mesyuarat agung

Rujukan jawapan: buku teks m.s. 397 - Soalan 29 SPM 2011

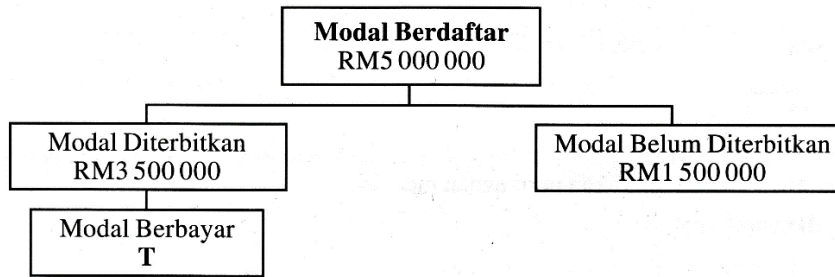
24. Modal Berdaftar Syarikat Hidayah Berhad terdiri daripada 1 000 000 unit saham biasa dengan nilai tara RM1.00 sesaham. Syarikat menerbitkan 600 000 unit saham biasa.

Berapakah modal yang belum diterbitkan?

- A RM400 000
- B RM600 000
- C RM1 000 000
- D RM1 600 000

Rujukan jawapan: buku teks m.s. 395 - Soalan 30 SPM 2011

25. Rajah 1 menunjukkan modal Syarikat Wawasan Berhad yang telah ditubuhkan pada 1 Mac 2011.



Rajah 1

Berapakah T?

- A RM1 500 000
- B RM3 500 000
- C RM5 000 000
- D RM8 500 000

Rujukan jawapan: buku teks m.s. 396 - Soalan 28 SPM 2012

26. Maklumat berikut berkaitan dengan modal saham Syarikat Arina Berhad.

Saham	Modal Diterbitkan	Modal Belum Diterbitkan
	RM	RM
Saham biasa	1 000 000	500 000
Saham Keutamaan	400 000	100 000

Berapakah jumlah modal dibenarkan?

- A RM2 000 000
- B RM1 500 000
- C RM1 400 000
- D RM600 000

Rujukan jawapan: buku teks m.s. 394 - Soalan 29 SPM 2012

27. Maklumat berikut berkaitan saham yang dibeli oleh Encik Malik.

Pada 1 Januari 2012, Encik Malik telah membeli 20 000 unit 8% saham keutamaan RM2 sesaham. Pada 31 Julai 2012 lembaga pengarah telah mengisytiharkan dividen interim saham keutamaan 5%.

Berapakah dividen akhir?

- A RM5 200
- B RM3 200
- C RM2 000
- D RM1 200

Rujukan jawapan: buku teks m.s. 406 - Soalan 26 SPM 2013

28. Maklumat berikut berkaitan modal Yakin Juara Berhad.

<p><u>Modal didaftarkan</u> 5 000 000 saham biasa RM1 setiap satu 2 500 000 8 % saham keutamaan RM2 setiap satu</p> <p><u>Modal diterbitkan</u> 1 500 000 saham biasa RM1 setiap satu 1 500 000 8 % saham keutamaan RM2 setiap satu</p> <p>Semua saham yang diterbit telah dilanggan dan dibayar penuh.</p>

Berapakah nilai modal yang diterbitkan?

- A RM3 000 000
- B RM4 500 000
- C RM7 500 000
- D RM10 000 000

Rujukan jawapan: buku teks m.s. 395 - Soalan 27 SPM 2013

29. Pernyataan manakah yang betul tentang ciri saham biasa dan saham keutamaan?

	Saham Biasa	Saham Keutamaan
A	Kadar dividen tetap	Kadar dividen berubah
B	Dividen dibayar sebelum saham keutamaan	Dividen dibayar selepas saham biasa
C	Pemegang saham berhak mengundi dalam mesyuarat agung syarikat	Pemegang saham tidak berhak mengundi dalam mesyuarat agung syarikat
D	Tuntutan ke atas aset didahulukan jika syarikat dibubarkan	Tuntutan ke atas aset dikemudiankan jika syarikat dibubarkan

Rujukan jawapan: buku teks m.s. 397 - Soalan 28 SPM 2013

30. Antara yang berikut, yang manakah ciri syarikat awam berhad?

- I. Bilangan pemegang saham terdiri daripada 2 hingga 50 orang
- II. Notis mesyuarat agung perlu diumumkan kepada orang awam
- III. Saham ditawarkan kepada orang awam, entiti perniagaan dan persatuan
- IV. Laporan kewangan perlu dibentangkan kepada pemegang saham tetapi tidak perlu kepada orang awam

- A I dan II
- B I dan IV
- C II dan III
- D III dan IV

Rujukan jawapan: buku teks m.s. 390 - Soalan 27 SPM 2014

31. Apakah dokumen yang mengandungi peraturan dalaman syarikat bagi sebuah syarikat berhad?

- A Prospektus
- B Tataurus Syarikat
- C Tatawujud Syarikat
- D Sijil Penubuhan Syarikat

Rujukan jawapan: buku teks m.s. 391 - Soalan 28 SPM 2014

32. Pernyataan manakah yang menunjukkan ciri pemegang saham keutamaan?
- A Mempunyai hak mengundi
 - B Mendapat dividen dengan kadar yang tetap
 - C Tidak berhak menerima dividen tertunggak
 - D Berpeluang menentukan polisi dan pengurusan syarikat

Rujukan jawapan: buku teks m.s. 397 - Soalan 29 SPM 2014

33. Maklumat berikut diambil daripada buku perniagaan Syarikat Nain Berhad.

Modal dibenarkan 1 000 000 unit saham biasa RM1 seunit Modal diterbitkan 300 000 unit saham biasa RM1 seunit

Semua saham yang diterbitkan dilanggan dan dibayar penuh.
Berapakah modal yang belum diterbitkan?

- A RM300 000
- B RM700 000
- C RM1 000 000
- D RM 1 300 000

Rujukan jawapan: buku teks m.s. 395 - Soalan 30 SPM 2014

BAB 12: KELAB DAN PERSATUAN

1. Data 6 menunjukkan aset dan liabiliti Kelab Damai pada 1 Januari 2003 dan 31 Disember 2003.

	1 Januari 2003	31 Disember 2003
Aset	RM	RM
Tunai	1 150	1 200
Perabot	4 500	4 000
Yuran tertunggak	70	70
Stok minuman	1 500	1 100
	<hr/>	<hr/>
	7 220	6 370
Liabiliti		
Yuran terdahulu	110	50
Kadar bayaran terakru	55	15
	<hr/>	<hr/>
	165	65

Data 6

Hitungkan dana terkumpul awal Kelab Damai.

- A RM6 265
- B RM6 660
- C RM7 055
- D RM7 220

Rujukan jawapan: buku teks m.s. 436 - Soalan 33 SPM 2004

2. Data 7 diperoleh daripada buku Kelab Rekreasi Mesra.

	RM
Stok restoran 1 Januari 2003	3 550
Stok restoran 31 Disember 2003	8 750
Jualan	17 520
Belian	8 120
Upah restoran	2 500

Data 7

Hitungkan untung minuman bagi kelab itu.

- A RM14 600
- B RM12 100
- C RM11 100
- D RM9 400

Rujukan jawapan: buku teks m.s. 433 - Soalan 34 SPM 2004

3. Apakah rumus yang tepat bagi pengiraan dana terkumpul?

- A Aset - Liabiliti
- B Aset + Liabiliti
- C Aset Semasa - Liabiliti Semasa
- D Aset Semasa + Liabiliti Semasa

Rujukan jawapan: buku teks m.s. 436 - Soalan 36 SPM 2006

4. Maklumat di bawah diperoleh daripada buku Kelab Setia pada 31 Disember 2003.

Akaun Penerimaan dan Pembayaran Bagi Tahun Berakhir 31 Disember 2003			
Penerimaan	RM	Pembayaran	RM
Yuran	2 550		

Maklumat tambahan:

- (i) Yuran tertunggak pada 31 Disember 2003 ialah RM120
- (ii) Yuran yang diterima termasuk RM250 untuk tahun 2004

Hitungkan jumlah yuran bagi tahun 2003.

- A RM2 420
- B RM2 550
- C RM2 680
- D RM2 920

Rujukan jawapan: buku teks m.s. 428 - Soalan 35 SPM 2004

5. Berikut ialah Akaun Yuran Kelab Kancil yang tidak lengkap.

Akaun Yuran			
2005	RM	2005	RM
Feb. 29 Baki h/b	100	Feb. 29 Tunai	8 200
Baki h/b	300		

Hitungkan yuran bagi tahun berakhir 29 Februari 2005.

- A RM8 200
- B RM8 400
- C RM8 500
- D RM8 600

Rujukan jawapan: buku teks m.s. 426, 427 - Soalan 33 SPM 2005

6. Maklumat berikut diperoleh daripada buku Kelab Sahabat Alam.

Akaun Penerimaan dan Pembayaran bagi tahun berakhir 31 Disember 2005.	
	RM
Penerimaan:	
Yuran	3 640
Maklumat tambahan:	
i) Yuran tertunggak pada 1 Januari 2005 ialah RM420.	
ii) Yuran terdahulu pada 31 Disember 2005 ialah RM180.	

Hitung jumlah yuran yang akan direkodkan dalam akaun pendapatan dan perbelanjaan bagi tahun berakhir 31 Disember 2005.

- A RM3 040
- B RM3 400
- C RM3 640
- D RM3 940

Rujukan jawapan: buku teks m.s. 426, 427 - Soalan 34 SPM 2006

7. Maklumat berikut diperolehi daripada buku Kelab Usahawan Muda Sekolah Menengah Kebangsaan Seri Bestari, Selangor.

	1 Jan 2005	31 Dis 2005
Penghutang	RM1 600	RM2 400
Maklumat tambahan:		
i)	Jualan tunai sepanjang tahun RM3 500	
ii)	Kutipan daripada penghutang sepanjang tahun RM4 650	

Hitung jumlah jualan kelab tersebut bagi tahun kewangan berakhir 31 Disember 2005.

- A RM7 350
- B RM8 650
- C RM8 150
- D RM8 950

Rujukan jawapan: buku teks m.s. 432 - Soalan 35 SPM 2006

8. Kelab Kesenian dan Warisan telah mengadakan pertunjukan fesyen untuk mengutip derma bagi menambahkan tabung kelab. Pertunjukan tersebut telah berjaya mengumpulkan sebanyak RM14 700 daripada orang ramai.

Pilih catatan yang tepat dalam petikan Penyata Kewangan.

A

Akaun Pendapatan dan Perbelanjaan	
	RM
Derma	14 700

B

Akaun Pendapatan dan Perbelanjaan	
	RM
Derma	14 700

C

Akaun Perdagangan	
	RM
Derma	14 700

D

Akaun Perdagangan	
	RM
Derma	14 700

Rujukan jawapan: buku teks m.s. 435 - Soalan 30 SPM 2007

9. Urus niaga yang manakah merupakan pendapatan modal bagi kelab dan persatuan?

- A Menerima komputer sebagai derma
- B Menerima yuran pertandingan
- C Faedah simpanan tetap
- D Keuntungan daripada aktiviti perniagaan kelab

Rujukan jawapan: buku teks m.s. 421 - Soalan 31 SPM 2008

10. Kelab Tenis Seri Permata mempunyai 100 orang ahli. Pada 1 Januari 2006, baki-baki berikut diperolehi daripada buku kelab.

	RM
Yuran tertunggak	510
Yuran terdahulu	250

Bagi tahun berakhir 31 Disember 2006, kelab ini menerima yuran sebanyak RM5 250. Jumlah ini termasuk RM150 yang diterima bagi tahun 2007.

Berapakah jumlah yuran yang sepatutnya diterima pada tahun 2006?

- A RM5 600
- B RM5 360
- C RM4 990
- D RM4 840

Rujukan jawapan: buku teks m.s. 428 - Soalan 31 SPM 2007

11. Maklumat berikut diperolehi daripada Kelab Ping Pong Kenari.

Akaun Penerimaan dan Pembayaran bagi tahun berakhir 31 Disember 2007			
	RM		
Yuran	500		
Maklumat tambahan:			
		1 Januari 2007	31 Disember 2007
		RM	RM
Yuran tertunggak		40	80
Yuran terdahulu		-	30

Berapakah jumlah yuran yang direkodkan dalam Akaun Pendapatan dan Perbelanjaan bagi tahun berakhir 31 Disember 2007?

- A RM490
- B RM500
- C RM510
- D RM570

Rujukan jawapan: buku teks m.s. 427, 428 - Soalan 32 SPM 2008

12. Maklumat berikut diperolehi daripada buku Kelab Badminton Sri Jaya.

**Akaun Pendapatan dan Perbelanjaan
bagi tahun berakhir 31 Disember 2007**

	RM		
Kadar bayaran	200	Yuran	2 450
Elaun jurulatih	500		
M	1 750		
	2 450		2 450

Apakah M?

- A Baki h/b
- B Lebihan
- C Kurangan
- D Untung bersih

Rujukan jawapan: buku teks m.s. 435 - Soalan 33 SPM 2008

13. Persatuan Penduduk Setia Alam telah menerima derma untuk membina bangunan persatuan. Apakah kesan urus niaga tersebut?

A Menambahkan pendapatan hasil
 B Mengurangkan pendapatan hasil
 C Menambahkan pendapatan modal
 D Mengurangkan pendapatan modal

Rujukan jawapan: buku teks m.s. 421 - Soalan 29 SPM 2009

14. Apakah istilah yang digunakan untuk mewakili ekuiti pemilik bagi sebuah kelab dan persatuan?

A Lebihan
 B Modal awal
 C Modal akhir
 D Dana terkumpul

Rujukan jawapan: buku teks m.s. 436 - Soalan 30 SPM 2009

15. Maklumat berikut diperolehi daripada Buku Tunai Kelab Sukan Sihat pada 31 Januari 2008.

	RM
Yuran Ahli	4 000
Kadar bayaran	150
Upah cuci gimnasium	200
Bayaran masuk	300

Berapakah baki akhir tunai?

A RM3 350
 B RM3 750
 C RM3 950
 D RM4 650

Rujukan jawapan: buku teks m.s. 429 - Soalan 31 SPM 2009

16. Apakah yang dimaksudkan dengan Yuran Tertunggak Awal?

A Yuran tahun semasa yang belum diterima
 B Yuran tahun lepas yang belum diterima
 C Yuran tahun hadapan yang diterima awal
 D Yuran tahun hadapan yang belum diterima

Rujukan jawapan: buku teks m.s. 423 - Soalan 32 SPM 2009

17. Rekod kewangan manakah yang hanya disediakan oleh sesebuah kelab dan persatuan?

A Kunci Kira-kira
 B Akaun Untung Rugi
 C Akaun Perdagangan
 D Akaun Penerimaan dan Pembayaran

Rujukan jawapan: buku teks m.s. 422 - Soalan 32 SPM 2011

18. Maklumat berikut diperolehi daripada buku Kelab Usahawan Muda SMK Damas

	RM
Penghutang 1 Januari 2009	1 600
Penghutang 31 Disember 2009	2 400
Jualan tunai	3 500
Kutipan daripada penghutang	4 650

Berapakah hasil jualan kelab tersebut bagi tahun berakhir 31 Disember 2009?

- A RM3 500
- B RM5 450
- C RM8 150
- D RM8 950

Rujukan jawapan: buku teks m.s. 432 - Soalan 31 SPM 2010

19. Maklumat berikut diperolehi daripada buku Kelab Kembara Muda.

Akaun Yuran					
2009		RM	2009	RM	
Jan. 1	Baki b/b	70	Jan. 1	Baki b/b	140
Dis. 31	J	1 060	Dis. 31	K	950
	Baki h/b	60		Baki h/b	100
		<u>1 190</u>			<u>1 190</u>

Apakah **J** dan **K**?

	J	K
A	Bank	Untung rugi
B	Untung rugi	Bank
C	Bank	Pendapatan dan perbelanjaan
D	Pendapatan dan perbelanjaan	Bank

Rujukan jawapan: buku teks m.s. 427 - Soalan 32 SPM 2010

20. Akaun berikut diperolehi daripada buku Kelab Badminton Budi Mulia.

**Akaun Pendapatan dan Perbelanjaan
bagi tahun berakhir 31 Disember 2010**

	RM		RM
Belanja air dan elektrik	1 250	Yuran	2 600
Belanja membaiki	2 500	Jualan bulu tangkis	1 240
Gaji	3 000	M	2 910
	<u>6 750</u>		<u>6 750</u>

Apakah **M**?

- A Lebihan
- B Kurangan
- C Untung bersih
- D Rugi bersih

Rujukan jawapan: buku teks m.s. 434 - Soalan 31 SPM 2011

21. Akaun Yuran berikut diambil daripada Kelab Kembara Muda bagi tahun berakhir 31 Disember 2011.

Akaun Yuran					
2011			2011		
		RM			RM
Jan. 1	Baki b/b	100	Dis. 31	Bank	1 200
Dis. 31	Pendapatan dan Perbelanjaan	1 300		Baki h/b	200
		<u>1400</u>			<u>1400</u>
2012					
Jan. 1	Baki b/b	200			

Apakah yang dimaksudkan baki b/b RM200 dalam akaun di atas?

- A Yuran ahli yang belum dijelaskan untuk tahun 2010
- B Yuran ahli yang belum dijelaskan untuk tahun 2011
- C Yuran ahli yang telah dijelaskan untuk tahun 2011
- D Yuran ahli yang telah dijelaskan untuk tahun 2012

Rujukan jawapan: buku teks m.s. 426 - Soalan 30 SPM 2012

22. Petikan Kunci Kira-kira berikut diperoleh daripada Kelab Sukan Mesra.

Kelab Sukan Mesra		
Kunci Kira-kira pada 31 Disember 2011		
		RM
	Dana Terkumpul	
	Dana terkumpul awal	8 500
	Tambah : X	1 500
		<u>10 000</u>
	Tambah : Yuran masuk	2 600
	Dana terkumpul akhir	<u>12 600</u>

Apakah butiran X?

- A Untung
- B Lebihan
- C Untung bersih
- D Modal tambahan

Rujukan jawapan: buku teks m.s. 439 - Soalan 31 SPM 2012

23. Akaun Perdagangan kantin Kelab Riadah Taman Star menunjukkan untung berjumlah RM2 450.

Untung tersebut akan dipindahkan ke

- A Akaun Yuran
- B Akaun Untung Rugi
- C Akaun Penerimaan dan Pembayaran
- D Akaun Pendapatan dan Perbelanjaan

Rujukan jawapan: buku teks m.s. 433 - Soalan 29 SPM 2013

24. Apakah butir pendapatan modal bagi kelab dan persatuan?

- A Untung minuman
- B Sewa alatan sukan
- C Faedah atas simpanan tetap
- D Derma untuk membina gelanggang

Rujukan jawapan: buku teks m.s. 421 - Soalan 30 SPM 2013

25. Maklumat berikut diperolehi daripada Kelab Taman Serai pada 1 Januari 2012.

	RM
Bank	1 230
Lengkapan	3 200
Stok cenderamata	800
Yuran tertunggak	150
Pemiutang cenderamata	740

Berapakah Dana Terkumpul pada tarikh tersebut?

- A RM4 640
- B RM4 520
- C RM4 320
- D RM4 220

Rujukan jawapan: buku teks m.s. 436 - Soalan 31 SPM 2013

BAB 13: REKOD TAK LENGKAP

1. Data 8 diperoleh daripada buku-buku akaun seorang peruncit. Beliau tidak menyimpan akaunnya dengan lengkap.

	1 Disember 2003	31 Disember 2003
	RM	RM
Stok	3 000	3 200
Alatan pejabat	4 000	3 500
Tunai	700	500
Penghutang	4 600	6 000
Bank	700	1 800
Pemiutang	3 300	4 700

Data 8

Hitungkan untung atau rugi perniagaan peruncit itu pada 31 Disember 2003.

- A** Rugi RM600
- B** Untung RM600
- C** Untung RM9 700
- D** Rugi RM10 300

Rujukan jawapan: buku teks m.s. 458 - Soalan 36 SPM 2004

2. Antara pernyataan berikut, yang manakah menunjukkan amalan rekod tak lengkap?
- I Urus niaga dicatatkan dalam Buku Tunai sahaja
 - II Urus niaga dicatat menggunakan sistem catatan bergu
 - III Dokumen perniagaan tidak disimpan secara sistematik
 - IV Rekod penghutang dicatatkan dalam Buku Catatan Harian sahaja
- A** I, II dan III
 - B** I, II dan IV
 - C** I, III dan IV
 - D** II, III dan IV

Rujukan jawapan: buku teks m.s. 456 - Soalan 34 SPM 2005

3. Maklumat berikut berkaitan dengan Perniagaan Dee Mars.

	RM
Modal pada 1 Mei 2004	50 000
Modal pada 30 April 2005	61 000
Modal tambahan	5 000
Ambilan	500

Hitungkan untung bersih atau rugi bersih bagi tahun berakhir 30 April 2005.

- A** Untung bersih RM15 500
- B** Untung bersih RM6 500
- C** Rugi bersih RM15 500
- D** Rugi bersih RM6 500

Rujukan jawapan: buku teks m.s. 458, 459 - Soalan 35 SPM 2005

4. Puan Nor Iman, pemilik Perniagaan Umi merupakan peniaga runcit yang mengamalkan rekod tidak lengkap.

Berikut adalah aset dan liabiliti Perniagaan Umi pada 31 Mei 2006.

	RM
Kenderaan	20 000
Penghutang	8 000
Pemiutang	4 500
Stok	11 200
Sewa diterima terakru	560
Maklumat tambahan:	
Kadar susut nilai kenderaan 10%	

Berapakah modal pada 31 Mei 2006?

- A RM28 260
- B RM32 140
- C RM33 260
- D RM34 140

Rujukan jawapan: buku teks m.s. 460 - Soalan 37 SPM 2006

5. Data berikut diperoleh daripada buku Perniagaan Rahmat yang tidak mengamalkan Sistem Catatan Bergu.

	RM
Modal awal	10 500
Modal akhir	15 000
Modal tambahan	1 500
Ambilan	800

Hitung untung bersih bagi perniagaan tersebut.

- A RM3 000
- B RM3 700
- C RM3 800
- D RM4 500

Rujukan jawapan: buku teks m.s. 459 - Soalan 38 SPM 2006

6. Apakah kelemahan sistem catatan tunggal?
- I Ketepatan perekodan akaun tidak dapat diuji
 - II Kesilapan catatan tidak mudah dikesan
 - III Imbangan duga tidak dapat disediakan
 - IV Untung atau rugi tidak dapat ditentukan
- A I, II, dan III
 - B I, II, dan IV
 - C I, III, dan IV
 - D II, III, dan IV

Rujukan jawapan: buku teks m.s. 456 - Soalan 32 SPM 2007

7. Maklumat berikut diperolehi daripada buku perniagaan Enrich Dell sekeluarga.

	1 Januari 2006	31 Disember 2006
	RM	RM
Modal	10 000	13 500
Maklumat tambahan:		
V	Ambilan dalam tahun 2006 ialah RM600	
VI	Modal tambahan RM1 000 dibawa masuk dalam tahun itu	

Berapakah untung bersih atau rugi bersih perniagaan tersebut bagi tahun berakhir 31 Disember 2006?

- A Untung bersih RM3 100
- B Untung bersih RM3 900
- C Rugi bersih RM3 900
- D Rugi bersih RM3 100

Rujukan jawapan: buku teks m.s. 459 - Soalan 33 SPM 2007

8. Maklumat berikut diperolehi daripada Perniagaan Batu Embun yang mengamalkan sistem catatan tunggal. Tempoh perakaunan berakhir pada 31 Julai 2007.

	1 Ogos 2006	31 Julai 2007
	RM	RM
Gaji terakru	450	1 200
Gaji sebanyak RM2 350 telah dibayar dengan cek pada 28 Julai 2007.		

Berapakah jumlah gaji bagi tahun kewangan tersebut?

- A RM1 600
- B RM2 350
- C RM3 100
- D RM4 000

Rujukan jawapan: buku teks m.s. 464, 465 - Soalan 34 SPM 2007

9. Situasi rekod tak lengkap yang manakah boleh berlaku dalam sesebuah perniagaan?

- A Tiada kawalan tunai dalam perniagaan
- B Buku-buku akaun telah tercicir atau musnah
- C Jumlah imbalan duga tidak dihitung dengan tepat
- D Peniaga tidak merancang perbelanjaan dengan baik

Rujukan jawapan: buku teks m.s. 456 - Soalan 34 SPM 2008

10. Maklumat berikut diperolehi daripada buku Perniagaan Nabilah pada 31 Disember 2008.

	RM
Sewa terakru 1 Januari 2008	1 200
Bayaran sewa	7 600
Sewa tahunan	7 200

Berapakah sewa terakru bagi tahun tersebut?

- A RM400
- B RM800
- C RM1 200
- D RM1 600

Rujukan jawapan: buku teks m.s. 464, 465 - Soalan 16 SPM 2009

11. Maklumat berikut diperolehi daripada akaun Kedai Runcit Amani. Tahun kewangannya berakhir pada 31 Mei 2006.

	RM
Kenderaan	15 000
Tunai	4 500
Bank (Overdraf)	1 750
Pemiutang	2 050
Penghutang	3 550

Berapakah modal pada tarikh itu?

- A RM16 250
- B RM19 250
- C RM19 750
- D RM22 750

Rujukan jawapan: buku teks m.s. 458 - Soalan 23 SPM 2007

12. Data berikut diambil daripada perniagaan Kedai Razif.

	RM
Modal awal	4 500
Modal tambahan	1 500
Untung bersih	2 620
Ambilan	620

Berapakah modal akhir Kedai Razif?

- A RM5 000
- B RM6 240
- C RM8 000
- D RM9 240

Rujukan jawapan: buku teks m.s. 459 - Soalan 35 SPM 2008

13. Maklumat berikut diperolehi daripada buku Kedai Balqis, sebuah perniagaan yang tidak menyimpan rekod yang lengkap.

Penyata Mengira Modal pada 1 Januari 2007	
P	RM
Tolak Q	45 500
	15 500
	30 000

Apakah butiran P dan Q?

- A Hasil dan Belanja
- B Aset dan Liabiliti
- C Modal akhir dan Modal awal
- D Aset semasa dan Liabiliti semasa

Rujukan jawapan: buku teks m.s. 458 - Soalan 36 SPM 2008

14. Maklumat berikut berkaitan dengan Perniagaan Kaar Ell.

	RM
Modal pada 1 Mei 2007	50 000
Modal pada 30 April 2008	61 000
Modal tambahan	5 000
Ambilan	500

Berapakah pulangan Perniagaan Kaar Ell?

- A Untung bersih RM15 500
- B Untung bersih RM6 500
- C Rugi bersih RM15 500
- D Rugi bersih RM6 500

Rujukan jawapan: buku teks m.s. 459 - Soalan 33 SPM 2009

15. Maklumat berikut diperolehi daripada buku Perniagaan Rahmat pada 31 Disember 2009 .

	RM
Modal awal	10 500
Modal akhir	15 000
Modal tambahan	1 500
Untung bersih	3 750

Berapakah ambilan perniagaan tersebut?

- A RM750
- B RM2 250
- C RM4 500
- D RM5 250

Rujukan jawapan: buku teks m.s. 459 - Soalan 33 SPM 2010

16. Encik Firdaus seorang peniaga mempunyai rekod perniagaan yang tidak lengkap. Beliau membuat analisis berkaitan perabot perniagaannya seperti berikut:

	RM
Baki perabot pada 1 Januari 2009	1 250
+ Belian perabot baru	750
	2 000
- Baki perabot pada 31 Disember 2009	1 500
Z	500

Apakah Z?

- A Susut nilai perabot
- B Rugi jualan perabot
- C Untung jualan perabot
- D Baki perabot pada 1 Januari 2010

Rujukan jawapan: buku teks m.s. 247 - Soalan 34 SPM 2010

17. Akaun Kadar Bayaran berikut disediakan untuk perniagaan Kedai Runcit Samy yang mempunyai rekod perniagaan yang tidak lengkap.

Akaun Kadar Bayaran					
2009		RM	2009	RM	
Jan. 1	Baki b/b	190	Dis. 31	Untung Rugi	970
	Bank	670			
Dis. 31	Baki h/b	110			
		<u>970</u>			<u>970</u>

Berapakah kadar bayaran terakru perniagaan tersebut?

- A RM110
- B RM190
- C RM590
- D RM670

Rujukan jawapan: buku teks m.s. 467, 468 - Soalan 35 SPM 2010

18. Maklumat di bawah diperolehi daripada buku perniagaan Encik Muru yang tidak mengamalkan sistem catatan bergu.

	1 Januari 2009	31 Disember 2009
	RM	RM
Pemiutang	3 200	5 500
Maklumat tambahan:		
(i) Pulangan belian RM500		
(ii) Pembayaran kepada pemiutang RM4 200		

Berapakah jumlah belian kredit?

- A RM1 400
- B RM2 400
- C RM6 000
- D RM7 000

Rujukan jawapan: buku teks m.s. 463 - Soalan 36 SPM 2010

19. Data berikut diperolehi dari buku-buku perniagaan Puan Khalida yang menyimpan rekod perniagaan dengan tidak lengkap.

	RM
Baki pemiutang pada 1 Januari 2010	5 600
Bayaran kepada pemiutang sepanjang tahun	17 414
Diskaun diterima	792
Pulangan belian	566
Baki pemiutang pada 31 Disember 2010	3 980

Berapakah belian kredit bagi tahun berakhir 31 Disember 2010?

- A RM15 794
- B RM17 152
- C RM19 260
- D RM20 392

Rujukan jawapan: buku teks m.s. 463 - Soalan 33 SPM 2011

20. Rumus berikut digunakan untuk mengira untung atau rugi sesuatu perniagaan.

Modal Akhir + X - Y - Modal Awal
--

Apakah **X** dan **Y**?

	X	Y
A	Modal Tambahan	Ambilan
B	Modal Kerja	Ambilan
C	Ambilan	Modal Tambahan
D	Modal	Modal Kerja

Rujukan jawapan: buku teks m.s. 459 - Soalan 37 SPM 2011

21. Maklumat berikut diperolehi daripada buku Perniagaan Zana.

	RM
Belian tunai	1 460
Belian kredit	8 165

Berapakah nilai belian yang akan dipindahkan ke Akaun Perdagangan?

- A** RM1 460
- B** RM6 705
- C** RM8 165
- D** RM9 625

Rujukan jawapan: buku teks m.s. 463 - Soalan 33 SPM 2012

22. Maklumat di bawah diperolehi daripada buku perniagaan Encik Muru yang gagal mengamalkan sistem catatan bergu.

Baki pemiutang pada 1 Januari 2011	RM3 200
Baki pemiutang pada 31 Disember 2011	RM5 500
Maklumat tambahan:	
(a) Pulangan belian RM500	
(b) Pembayaran kepada pemiutang RM4 200	

Berapakah belian kredit?

- A** RM1 400
- B** RM2 400
- C** RM6 000
- D** RM7 000

Soalan 34 SPM 2012

23. Maklumat berikut diambil daripada buku Perniagaan Rama.

	RM
Modal pada 1 Januari 2012	42 600
Modal pada 31 Disember 2012	47 600
Ambilan sepanjang tahun 2012	3 520

Apakah yang diperolehi Perniagaan Rama pada 31 Disember 2012?

- A** Rugi RM1 480
- B** Rugi RM8 520
- C** Untung RM1 148
- D** Untung RM8 520

Rujukan jawapan: buku teks m.s. 459 - Soalan 32 SPM 2013

24. Maklumat berikut diambil daripada buku Kedai Abu yang tidak mengamalkan sistem catatan bergu.

		RM
1 Januari 2011	Modal	42 800
31 Disember 2011	Kenderaan	33 400
	Bank	7 600
Abu telah membuatambilan sebanyak RM500 sepanjang tahun tersebut.		

Berapakah untung atau rugi bagi tahun berakhir 31 Disember 2011?

- A Untung bersih RM2 300
- B Untung bersih RM1 300
- C Rugi bersih RM2 300
- D Rugi bersih RM1 300

Rujukan jawapan: buku teks m.s. 458, 459 - Soalan 35 SPM 2012

25. Apakah kaedah yang digunakan untuk menentukan pendapatan bagi perniagaan yang tidak mengamalkan sistem catatan bergu?

- I Kaedah Analisis
- II Kaedah Perbandingan
- III Kaedah Penilaian Semula
- IV Kaedah Margin Caruman

- A I dan II
- B I dan IV
- C II dan III
- D III dan IV

Rujukan jawapan: buku teks m.s. 457 - Soalan 33 SPM 2013

26. Maklumat berikut diperolehi daripada buku Kedai Runcit Chik, sebuah perniagaan yang tidak mengamalkan sistem catatan bergu.

		<u>1 Januari 2012</u>
		RM
Stok		11 900
Perabot		3 200
Bank		4 100
Pemiutang		8 600
Penghutang		1 700
Kadar bayaran terakru		110

Berapakah modal awal kedai tersebut?

- A RM8 790
- B RM12 190
- C RM12 410
- D RM29 610

Rujukan jawapan: buku teks m.s. 458 - Soalan 34 SPM 2013

27. Maklumat berikut diberikan oleh Kedai Runcit Ria.

	RM
Baki penghutang 1 Januari 2012	3 000
Baki penghutang 31 Disember 2012	4 000
Penerimaan daripada penghutang	8 000
Pulangan jualan	320

Berapakah jualan kredit kedai tersebut?

- A RM6 680
- B RM7 320
- C RM8 680
- D RM9 320

Rujukan jawapan: buku teks m.s. 462 - Soalan 35 SPM 2013

28. Antara berikut, yang manakah menyebabkan rekod perakaunan tak lengkap?

- I. Menyimpan hanya rekod penghutang dan pemiutang
- II. Mencatat di buku tunai sahaja
- III. Merekod menggunakan sistem catatan bergu
- IV. Mencatat di buku catatan pertama dan pindahan ke lejar

- A I dan II
- B I dan IV
- C II dan III
- D III dan IV

Rujukan jawapan: buku teks m.s. 456 - Soalan 31 SPM 2014

29. Bagaimanakah untung bersih dikira jika peniaga mempunyai rekod tak lengkap?

- A Modal akhir + Ambilan - Modal awal - Modal tambahan
- B Modal awal - Ambilan + Modal akhir + Modal tambahan
- C Modal awal + Modal tambahan - Modal akhir - Ambilan
- D Modal akhir - Modal awal + Modal tambahan - Ambilan

Rujukan jawapan: buku teks m.s. 459 - Soalan 32 SPM 2014

30. Cik Mona tidak menyimpan buku akaun dengan lengkap. Maklumat berikut diperolehi pada 31 Disember 2013.

2013	RM
Jan. 1 Iklan terakru	280
Dis. 31 Jumlah pembayaran iklan	540
Iklan terakru	160

Berapakah jumlah iklan yang direkodkan dalam Akaun Untung Rugi bagi tahun berakhir 31 Disember 2013?

- A RM420
- B RM540
- C RM660
- D RM980

Rujukan jawapan: buku teks m.s. 464, 465 - Soalan 33 SPM 2014

BAB 14: PENGENALAN KEPADA PERAKAUNAN

PENGURUSAN

1. Antara berikut, pernyataan yang manakah **benar** tentang elemen kos pengeluaran?
- I Upah pekerja kilang merupakan kos buruh langsung firma
 - II Kos bahan adalah kos yang terlibat untuk membeli bahan mentah
 - III Kos yang terlibat dengan pengurusan kilang dikenali sebagai kos overhead
 - IV Kos prima terdiri daripada kos bahan mentah dan kos buruh tak langsung
- A I, II dan III
 B I, II dan IV
 C I, III dan IV
 D II, III dan IV

Rujukan jawapan: buku teks m.s. 491, 492 - Soalan 37 SPM 2004

2. Maklumat di bawah menunjukkan Penyata Kos Pengeluaran sebuah firma.

Penyata Kos Pengeluaran bagi Tahun Berakhir 31 Disember 2003		
	RM	RM
Stok awal bahan mentah		1 200
Belian bahan mentah		4 500
		5 700
Tolak: Stok akhir bahan mentah		900
		4 800
Upah langsung		1 500
		6 300
Upah tak langsung	2 400	
Sewa kilang	1 800	
Susut nilai loji	700	
	4 900	
		11 200

Nyatakan kos prima firma itu.

- A RM4 800
 B RM4 900
 C RM6 300
 D RM11 200
3. Apakah rumus bagi kos prima?
- A Kos bahan mentah + Kos buruh langsung - Kos belanja langsung
 B Kos bahan mentah + Kos buruh langsung + Kos belanja langsung
 C Kos bahan mentah + Kos buruh langsung + Kos overhead
 D Kos bahan mentah + Kos buruh langsung - Kos overhead

Rujukan jawapan: buku teks m.s. 492 - Soalan 38 SPM 2004

Rujukan jawapan: buku teks m.s. 492 - Soalan 39 SPM 2006

4. Data 9 menunjukkan kos pengeluaran Syarikat Perniagaan Zek yang mengeluarkan pasu bunga dengan harga jualan RM80 seunit.

	RM
Bahan mentah (seunit)	30
Buruh langsung (seunit)	20
Sewa kedai	10 000
Susut nilai aset tetap	50 000

Data 9

Syarikat itu ingin mendapatkan keuntungan sebanyak RM9 000.
Berapakah unit pasu yang perlu dikeluarkan?

- A 1 000
- B 1 380
- C 2 000
- D 2 300

Rujukan jawapan: buku teks m.s. 509, 510 - Soalan 39 SPM 2004

5. Jadual 2 menunjukkan kedudukan jumlah kos pada tiga tingkat pengeluaran bagi suatu produk tertentu.

Jumlah Pengeluaran (unit)	0	5 000	10 000
Jumlah Kos (RM)	5 000	10 000	15 000

Jadual 2

Pernyataan berikut adalah benar tentang maklumat dalam Jadual 2 **kecuali**

- A kos berubah seunit ialah RM1.50
- B jumlah kos dipengaruhi oleh tingkat pengeluaran
- C jumlah kos terdiri daripada kos tetap dan kos berubah
- D kos tetap pada setiap tingkat pengeluaran ialah RM5 000

Rujukan jawapan: buku teks m.s. Soalan 36 SPM 2005

6. Data 9 ialah maklumat yang diperolehi daripada Kilang Abadi.

	RM
Bahan mentah	6 500
Buruh langsung	4 500
Overhed	3 500
Kerja dalam proses awal	3 000
Kerja dalam proses akhir	2 000

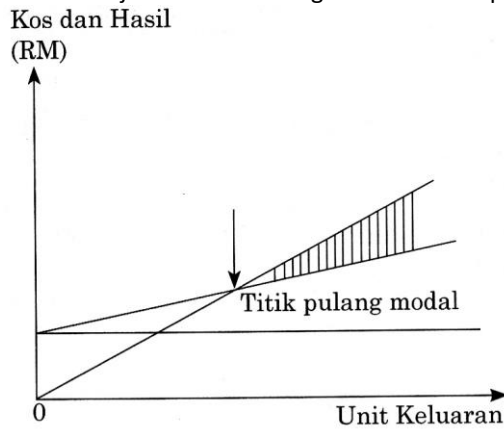
Data 9

Hitungkan kos pengeluaran

- A RM13 500
- B RM14 500
- C RM15 500
- D RM17 500

Rujukan jawapan: buku teks m.s. 493 - Soalan 37 SPM 2005

7. Graf berikut menunjukkan Titik Pulang Modal sebuah perniagaan yang menjual peralatan sukan.



Kawasan berlorek mewakili

- A kos tetap
- B rugi bersih
- C kos berubah
- D untung bersih

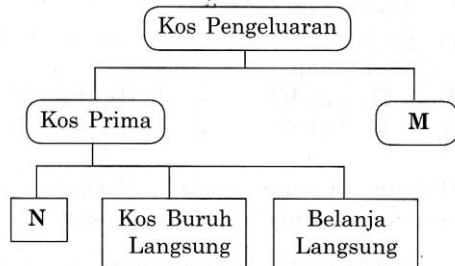
Rujukan jawapan: buku teks m.s. 505 - Soalan 40 SPM 2006

8. Butiran yang manakah merupakan kos buruh langsung?

- A Gaji pengawal keselamatan kilang
- B Upah penyelenggaraan kilang
- C Upah pekerja kilang
- D Gaji penyelia kilang

Rujukan jawapan: buku teks m.s. 491, 492 - Soalan 35 SPM 2007

9. Rajah 2 berkaitan dengan elemen kos pengeluaran sebuah kilang.



Rajah 2

Apakah elemen M dan N?

	M	N
A	Kerja Dalam Proses	Kos Overhed
B	Kos Overhed	Kos Bahan Mentah
C	Kos Bahan Mentah	Kos Buruh Tak Langsung
D	Kerja Dalam Proses	Kos Buruh Tak Langsung

Rujukan jawapan: buku teks m.s. 492, 493 - Soalan 36 SPM 2007

10. Pernyataan yang manakah menerangkan kos berubah?
- A Belanja yang berkadar terus dengan perubahan volum pengeluaran
 - B Belanja yang berkadar songsang dengan perubahan volum pengeluaran
 - C Belanja yang tetap dan berubah mengikut perubahan volum pengeluaran
 - D Belanja yang tidak dipengaruhi oleh perubahan volum pengeluaran

Rujukan jawapan: buku teks m.s. 489 - Soalan 37 SPM 2008

11. Data berikut diperoleh daripada Kilang Kasut Zebna.

	RM
Gaji pekerja pengeluaran	18 000
Kos bahan mentah	35 000
Belanja susut nilai mesin	40 500
Barang siap	25 600

Berapakah jumlah kos pengeluaran?

- A RM67 900
- B RM78 600
- C RM93 500
- D RM119 100

Rujukan jawapan: buku teks m.s. 493 - Soalan 38 SPM 2008

12. Apakah tujuan Akaun Pengeluaran disediakan?
- A Merancang proses pengeluaran
 - B Mengira untung atau rugi pengeluaran
 - C Menunjukkan kos yang terlibat dalam pengeluaran
 - D Menyatakan kedudukan kewangan firma pengeluaran

Rujukan jawapan: buku teks m.s. 495 - Soalan 34 SPM 2009

13. Maklumat berikut ialah kos yang terlibat dalam pengeluaran biskut LITE.

Kos berubah per unit	RM0.80
Jumlah kos tetap	RM4 000.00

Berapakah untung yang diperoleh jika 12 000 unit biskut LITE dijual pada harga RM1.20 seunit?

- A RM10 400
- B RM5 600
- C RM4 800
- D RM800

Rujukan jawapan: buku teks m.s. 511 - Soalan 35 SPM 2009

14. Apakah maklumat yang boleh didapati apabila seorang pengurus membuat analisis kos volum untung?
- A Jumlah unit yang hendak dikeluarkan bagi memaksimumkan penggunaan mesin
 - B Jumlah unit yang perlu dikeluarkan untuk memenuhi permintaan
 - C Jumlah jualan yang perlu dicapai untuk mendapat keuntungan
 - D Jumlah jualan yang perlu dibuat bagi menstabilkan harga

Rujukan jawapan: buku teks m.s. 503 - Soalan 37 SPM 2010

15. Pusat Kecantikan Atiqah menawarkan perkhidmatan rawatan muka yang berasaskan minyak aroma. Kos yang terlibat dalam perkhidmatan tersebut adalah seperti berikut:

	RM
Harga jualan seunit	45
Kos berubah seunit	30
Kos tetap	2 400

Berapakah bilangan perkhidmatan yang perlu diberikan sekiranya kos tetap meningkat sebanyak 25%

- A 120 unit
- B 160 unit
- C 200 unit
- D 280 unit

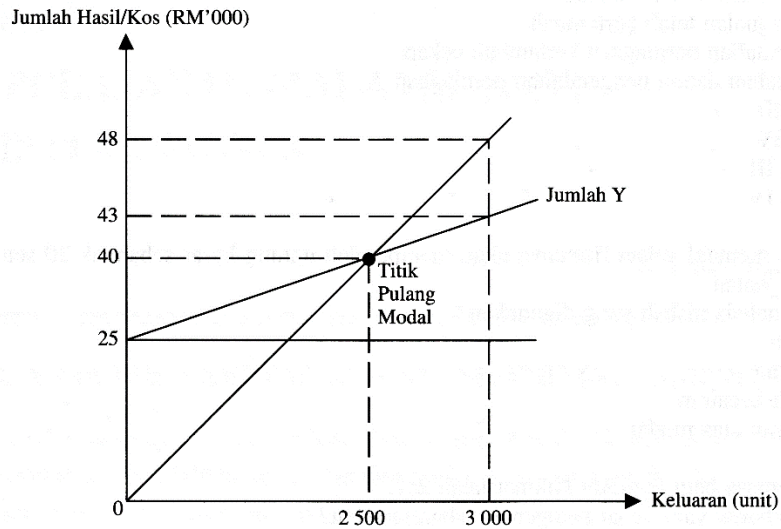
Rujukan jawapan: buku teks m.s. 509 - Soalan 38 SPM 2010

16. Pernyataan manakah yang menerangkan kos tetap?

- A Kos bahan mentah adalah kos tetap
- B Kos yang berkadaran dengan tingkat pengeluaran
- C Kos yang malar walaupun tingkat pengeluaran sifar
- D Kos tetap tidak berubah dalam jangka panjang

Rujukan jawapan: buku teks m.s. 488 - Soalan 35 SPM 2011

17. Graf Titik Pulang Modal berikut diperoleh daripada sebuah kilang sabun.



Berapakah kos tetap pada tingkat pengeluaran 3 000?

- A RM25 000
- B RM40 000
- C RM43 000
- D RM48 000

Rujukan jawapan: buku teks m.s. 504, 507 - Soalan 36 SPM 2011

Soalan 18 dan **Soalan 19** adalah merujuk kepada maklumat yang diambil dari buku perniagaan Encik Azam, seorang pengeluar.

	RM
Kos berubah 100 unit	800
Harga jualan seunit	20
Kos tetap	3 000

18. Berapakah margin caruman seunit?

- A RM36
- B RM28
- C RM12
- D RM8

Rujukan jawapan: buku teks m.s. 509 - Soalan 36 SPM 2012

19. Berapakah titik pulangan modalnya?

- A RM1 800
- B RM4 200
- C RM5 000
- D RM7 500

Rujukan jawapan: buku teks m.s. 509 - Soalan 37 SPM 2012

20. Kilang pakaian Artek Garment Sdn. Bhd. membayar gaji pengurus kilang sebanyak RM3 500 sebulan. Apakah perbelanjaan tersebut?

- A Kos buruh langsung
- B Belanja langsung
- C Kos overhead
- D Kos prima

Rujukan jawapan: buku teks m.s. 492 - Soalan 38 SPM 2012

21. Maklumat berikut adalah kos yang terlibat dalam pengeluaran perabot oleh Jati Enterprise bagi tahun berakhir 31 Disember 2012.

	RM
Bahan langsung	359 000
Upah buruh langsung	62 000
Sewa kilang	24 000
Kadar bayaran kilang	18 000

Berapakah jumlah kos prima?

- A RM463 000
- B RM421 000
- C RM401 000
- D RM379 000

Rujukan jawapan: buku teks m.s. 491 - Soalan 36 SPM 2013

22. Mahkamah mengarahkan Juasa Berhad, sebuah syarikat pengeluar kasut menghentikan sementara operasinya selama sebulan kerana kesalahan alam sekitar.

Apakah jenis kos yang perlu ditanggung oleh syarikat tersebut?

- A Kos tetap
- B Kos berubah
- C Kos pengeluaran
- D Kos bahan mentah

Rujukan jawapan: buku teks m.s. 488 - Soalan 37 SPM 2013

23. Apakah tujuan akaun pengeluaran disediakan?

- A Mengira kos belian
- B Mencari untung bersih
- C Memperoleh untung kasar
- D Menghitung jumlah kos pengilangan

Rujukan jawapan: buku teks m.s. 495 - Soalan 38 SPM 2013

24. Maklumat berikut berkaitan kos pengeluaran kerepek oleh Orang Desa Enterprise.

Kos Tetap	RM20 000
Harga Jualan	RM2 sekilogram
Margin caruman	RM5 sekilogram

Berapakah titik pulang modal sekiranya kos tetap meningkat sebanyak RM10 000?

- A 2 000 kilogram
- B 6 000 kilogram
- C 12 000 kilogram
- D 15 000 kilogram

Rujukan jawapan: buku teks m.s. 509 - Soalan 34 SPM 2014

25. Kilang Kek Murni merupakan pembekal kek dan roti di sekitar Bandar Baru Bangi. Antara yang berikut, manakah kos tetap kilang tersebut?

- I. Angkutan masuk bahan langsung
- II. Upah operator pengeluaran
- III. Susut nilai mesin
- IV. Sewa kilang

- A I dan II
- B I dan IV
- C II dan III
- D III dan IV

Rujukan jawapan: buku teks m.s. 488 - Soalan 35 SPM 2014

26. Apakah istilah yang digunakan bagi lebih harga jualan daripada kos berubah?

- A Untung
- B Tokokan
- C Margin caruman
- D Titik pulang modal

Rujukan jawapan: buku teks m.s. 503 - Soalan 36 SPM 2014

27. Maklumat berikut berkaitan bahan mentah Perusahaan Sedap Rasa, pengeluaran keropok segera.

	RM
Stok awal bahan langsung	500
Belian bahan langsung	1 000
Angkutan masuk	200
Stok akhir bahan langsung	700

Berapakah kos bahan langsung?

- A RM1 000
- B RM1 400
- C RM2 000
- D RM2 400

Rujukan jawapan: buku teks m.s. 491 - Soalan 37 SPM 2014

BAB 15: MAKLUMAT UNTUK MEMBUAT KEPUTUSAN

1. Data 10 diperoleh daripada buku akaun Encik Zam bagi tahun berakhir 31 Disember 2003.

Stok awal	RM7 320
Kos jualan	RM38 500
Kadar pusingan ganti stok	7 kali

Data 10

Hitungkan nilai stok akhir.

- A RM1 820
- B RM3 680
- C RM5 500
- D RM6 410

Rujukan jawapan: buku teks m.s. 531 - Soalan 40 SPM 2004

2. Maklumat berikut ialah baki buku Perniagaan Ehsan pada 31 Oktober 2005.

	RM
Kenderaan	15 000
Penghutang	20 500
Pemiutang	20 000
Bank (overdraf)	10 000
Stok akhir	24 500

Berapakah nisbah semasa perniagaan itu pada tarikh tersebut?

- A 1.5
- B 2
- C 2.75
- D 3.5

Rujukan jawapan: buku teks m.s. 529 - Soalan 38 SPM 2005

3. Nisbah semasa Syarikat Perdana ialah 1: 2. Pilih tindakan yang perlu diambil untuk memperbaiki tahap kecairan syarikat itu.

- I Membuat pinjaman bank
- II Menambahkan belian barang niaga
- III Memanjangkan tempoh jualan kredit
- IV Menjual sebahagian aset bukan semasa

- A I dan III
- B I dan IV
- C II dan III
- D II dan IV

Rujukan jawapan: buku teks m.s. 529 - Soalan 39 SPM 2005

4. Jadual 3 diperoleh daripada Syarikat Siti yang mengusahakan industri batik.

	Syarikat Bibi	Syarikat Siti
Kadar pusing ganti stok	3 kali	6 kali

Jadual 3

Antara berikut, manakah benar tentang pengurusan stok kedua-dua syarikat tersebut?

- A Jualan stok Syarikat Siti kurang laris berbanding Syarikat Bibi
- B Pengurusan stok Syarikat Siti lebih efisien daripada Syarikat Bibi
- C Syarikat Siti menanggung kos penyimpanan stok yang lebih tinggi daripada Syarikat Bibi
- D Syarikat Bibi menukar stok setiap 3 bulan sekali manakala Syarikat Siti menukar stok setiap 6 bulan sekali

Rujukan jawapan: buku teks m.s. 544 - Soalan 40 SPM 2005

5. Apakah rumus untuk mengira nisbah semasa?

- A Aset Semasa - Liabiliti Semasa
- B Aset Bukan Semasa - Liabiliti Semasa
- C $\frac{\text{Aset Semasa}}{\text{Liabiliti Semasa}}$
- D $\frac{\text{Aset Bukan Semasa}}{\text{Liabiliti Semasa}}$

Rujukan jawapan: buku teks m.s. 529 - Soalan 37 SPM 2007

6. Apakah maksud kadar pusing ganti stok yang rendah?

- I Stok jualan kurang laris
- II Tukar ganti stok yang terlalu kerap
- III Tidak cekap dalam mengurus stok
- IV Berkemampuan menjelaskan hutang pembelian stok

- A I dan III
- B I dan IV
- C II dan III
- D II dan IV

Rujukan jawapan: buku teks m.s. 531 - Soalan 38 SPM 2007

7. Maklumat berikut diperoleh daripada buku Perniagaan Hamid bagi tahun berakhir 31 Disember 2006.

	RM
Stok awal	10 200
Stok akhir	12 140
Belian	15 780
Jualan	23 640
Untung kasar	9 800

Berapa peratuskah untung kasar atas kos jualan?

- A 70.8%
- B 62.1%
- C 55.3%
- D 41.5%

Rujukan jawapan: buku teks m.s. 526 - Soalan 39 SPM 2007

8. Maklumat berikut diambil daripada buku Kedai Pintar Choo.

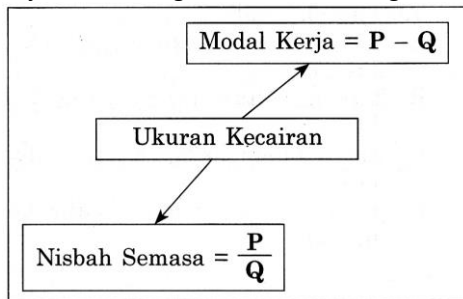
	RM
Stok pada 1 Januari 2007	8 340
Stok pada 31 Disember 2007	7 620
Untung kasar	6 950
Kadar pusing ganti stok	7 kali

Berapakah kos jualan?

- A RM48 650
- B RM53 340
- C RM55 860
- D RM58 380

Rujukan jawapan: buku teks m.s. 531 - Soalan 39 SPM 2008

9. Rajah berikut digunakan untuk mengukur kecairan sesuatu perniagaan.



Apakah P dan Q?

	P	Q
A	Aset	Liabiliti
B	Aset Semasa	Liabiliti Semasa
C	Aset Semasa	Aset Bukan Semasa
D	Aset Bukan Semasa	Liabiliti Bukan Semasa

Rujukan jawapan: buku teks m.s. 529 - Soalan 36 SPM 2009

10. Pilih padanan yang **betul** bagi kegunaan nisbah berikut.

	Nisbah	Kegunaan
A	Kadar pusing ganti stok	Mengukur kecekapan pengurusan stok
B	Pulangan atas modal	Mengukur kadar untung kasar atas setiap ringgit modal yang dilaburkan
C	Nisbah semasa	Mengukur kemampuan firma menjelaskan hutang jangka panjang
D	Margin	Mengukur peratus untung bersih bagi setiap ringgit jualan

Rujukan jawapan: buku teks m.s. 547 - Soalan 37 SPM 2009

11. Maklumat berikut diperolehi daripada buku Kedai Shamsuddin pada 31 Disember 2008.

	RM
Jualan	20 000
Stok pada 1 Januari 2008	4 000
Stok pada 31 Disember 2008	2 000
Untung kasar adalah 25% daripada jualan.	

Berapakah kadar pusing ganti stok perniagaan berkenaan?

- A 7.50 kali
- B 5 kali
- C 4 kali
- D 3.75 kali

Rujukan jawapan: buku teks m.s. 527, 531 - Soalan 38 SPM 2009

12. Maklumat berikut diperolehi daripada Syarikat Sejahtera Berhad.

Tahun	Nisbah Semasa
2007	2 : 3
2008	2 : 1

Tafsirkan prestasi syarikat bagi tahun 2008 berbanding tahun 2007.

- A Merosot dan tidak mampu membayar hutang
- B Meningkatkan ke tahap kecairan yang paling baik
- C Merosot tetapi masih mampu membayar hutang
- D Meningkatkan terlalu tinggi dan kurang memberi pulangan

Rujukan jawapan: buku teks m.s. – 529, 539 - Soalan 39 SPM 2009

13. Maklumat berikut diberikan oleh Jaya Enterprise.

	RM
Insurans terdahulu	250
Overdraf bank	1 500
Penghutang	6 000

Berapakah nisbah semasa Jaya Enterprise?

- A 0.24 : 1
- B 0.29 : 1
- C 3.43 : 1
- D 4.17 : 1

Rujukan jawapan: buku teks m.s. 529 - Soalan 39 SPM 2010

14. Encik Ali memaklumkan firmannya akan memperoleh untung kasar sebanyak 30 sen bagi setiap RM1 kos jualan.

Apakah analisis nisbah yang digunakan?

- A Margin
- B Tokokan
- C Nisbah kecairan
- D Pulangan atas modal

Rujukan jawapan: buku teks m.s. 526 - Soalan 39 SPM 2011

15. Bintang Enterprise ingin menilai prestasi perniagaannya untuk tahun 2009 dan tahun 2010 berdasarkan maklumat berikut.

Tahun	2009	2010
Peratus untung bersih atas jualan	16%	18%

Pilih faktor yang menyebabkan perubahan dalam peratus tersebut.

- I Harga jualan telah dinaikkan
- II Volum jualan telah bertambah
- III Pengendalian perniagaan bertambah cekap
- IV Kelemahan dalam pengendalian perniagaan

- A I dan III
- B I dan IV
- C II dan III
- D II dan IV

Rujukan jawapan: buku teks m.s. 527 - Soalan 38 SPM 2011

16. Nisbah semasa bagi Syarikat Nikmat ialah 2:1. Apakah tafsiran yang tepat mengenai nisbah tersebut?

- A Jumlah liabiliti melebihi 2 kali ganda aset
- B $\frac{2}{3}$ daripada jumlah aset adalah aset semasa
- C Setiap RM2 nilai aset semasa dapat menjelaskan RM1 nilai liabiliti semasa
- D Jika RM2 yang dilaburkan, syarikat memperoleh pulangan sebanyak RM1

Rujukan jawapan: buku teks m.s. 529 - Soalan 40 SPM 2011

17. Maklumat berikut diperolehi daripada Perniagaan Alley.

Tokokan	25%
Margin	10%

Apakah tafsiran daripada maklumat tersebut?

- A Setiap RM1 kos jualan, untung kasar ialah 25 sen
- B Setiap RM1 kos jualan, untung kasar ialah 10 sen
- C Setiap RM1 untung kasar, untung bersih ialah 25 sen
- D Setiap RM1 untung kasar, untung bersih ialah 10 sen

Rujukan jawapan: buku teks m.s. 526, 527 - Soalan 39 SPM 2012

18. Rumus manakah yang betul?

- A
$$\text{Nisbah semasa} = \frac{\text{Liabiliti Semasa}}{\text{Aset Semasa}}$$
- B
$$\text{Stok purata} = \frac{\text{Stok akhir} - \text{Stok awal}}{2}$$
- C
$$\text{Pulangan atas modal} = \frac{\text{Untung bersih}}{\text{Modal awal}}$$
- D
$$\text{Kadar pusing ganti stok} = \frac{\text{Kos jualan}}{\text{Stok purata}}$$

Rujukan jawapan: buku teks m.s. 543, 544 - Soalan 40 SPM 2012

19. Petikan Penyata Pendapatan berikut diambil daripada Perniagaan Aman bagi tahun berakhir 30 Jun 2012.

	RM	RM
Jualan bersih		105 700
Tolak: Kos Jualan		
Stok awal	7 000	
Belian bersih	78 600	
	85 600	
Tolak: Stok akhir	6 300	
Kos jualan		79 300
Untung kasar		26 400

Berapakah peratus untung kasar atas kos jualan?

- A 24.98%
- B 30.84%
- C 33.29%
- D 33.59%

Rujukan jawapan: buku teks m.s. 526 - Soalan 39 SPM 2013

20. Maklumat berikut berkaitan dengan nisbah semasa dua buah perniagaan.

	Perniagaan Indah	Makmur Enterprise
Nisbah Semasa	2:1	3:1

Apakah tafsiran yang betul menggambarkan kedua-dua perniagaan tersebut?

- A Makmur Enterprise memperoleh kadar keuntungan kasar lebih tinggi berbanding Perniagaan Indah
- B Kedudukan untung keseluruhan Makmur Enterprise adalah lebih baik berbanding Perniagaan Indah
- C Harga jualan Makmur Enterprise lebih tinggi berbanding harga jualan Perniagaan Indah
- D Kedua-dua perniagaan berkemampuan untuk menjelaskan liabiliti semasa

Rujukan jawapan: buku teks m.s. 529 - Soalan 40 SPM 2013

21. Maklumat berikut diperolehi daripada Perniagaan Azizul pada 31 Disember 2013.

Stok purata	RM19 000
Untung Kasar	RM42 400
Kadar pusing ganti stok	4 kali

Berapakah kos jualan?

- A RM93 600
- B RM76 000
- C RM61 400
- D RM47 150

Rujukan jawapan: buku teks m.s. 531 - Soalan 38 SPM 2014

22. Pasangan yang manakah betul tentang nisbah dan tafsirannya?

	Nisbah	Tafsiran
A	Pulangan atas modal	Menilai prestasi pengurusan
B	Nisbah semasa	Mengetahui tahap kecairan
C	Tokokan	Menilai kecekapan pengurusan stok
D	Kadar pusing ganti stok	Mengetahui kedudukan kewangan

Rujukan jawapan: buku teks m.s. 547 - Soalan 39 SPM 2014

23. Maklumat berikut diambil daripada buku Syarikat Mawar Sendirian Berhad pada 31 Mac 2014.

	RM
Penghutang	15 000
Stok akhir	5 000
P	10 000
Nisbah semasa syarikat ialah 2:1	

Apakah P?

- A Tunai
- B Bangunan
- C Pemiutang
- D Gadai janji

Rujukan jawapan: buku teks m.s. 529 - Soalan 40 SPM 2014

TINGKATAN 5 - SOALAN TOPIKAL SPM 2004 - 2014

Jawapan Bab 8

1	2	3	4	5	6	7	8	9	10
B	B	A	B	D	C	A	D	D	C
11	12	13	14	15	16	17	18	19	20
C	D	B	A	B	C	D	D	D	C
21	22	23							
A	C	D							

Jawapan Bab 9

1	2	3							
D	D	D							

Jawapan Bab 10

1	2	3	4	5	6	7	8	9	10
A	D	D	B	B	B	B	D	D	C
11	12	13	14	15	16	17	18	19	20
B	B	C	C	B	A	B	C	D	C
21	22	23	24	25	26	27	28	29	30
B	A	C	B	B	C	A	B	D	C
31	32	33	34	35	36	37	38		
D	A	C	A	C	B	C	C		

Jawapan Bab 11

1	2	3	4	5	6	7	8	9	10
B	D	C	A	B	D	B	C	C	D
11	12	13	14	15	16	17	18	19	20
D	A	A	A	C	D	A	A	B	A
21	22	23	24	25	26	27	28	29	30
A	B	B	A	B	A	D	B	C	C
31	32	33							
B	B	B							

Jawapan Bab 12

1	2	3	4	5	6	7	8	9	10
C	B	A	A	B	A	D	A	A	D
11	12	13	14	15	16	17	18	19	20
C	B	C	D	C	B	D	D	D	B
21	22	23	24	25					
B	B	D	D	A					

Jawapan Bab 13

1	2	3	4	5	6	7	8	9	10
B	C	B	C	C	A	A	C	B	B
11	12	13	14	15	16	17	18	19	20
B	C	B	B	A	A	A	D	B	C
21	22	23	24	25	26	27	28	29	30
D	D	D	D	A	B	D	A	A	A

Jawapan Bab 14

1	2	3	4	5	6	7	8	9	10
A	C	B	D	A	C	D	C	B	A
11	12	13	14	15	16	17	18	19	20
C	C	D	C	C	C	A	C	C	C
21	22	23	24	25	26	27			
B	A	D	B	D	C	A			

Jawapan Bab 15

1	2	3	4	5	6	7	8	9	10
B	A	B	B	C	A	A	C	B	A
11	12	13	14	15	16	17	18	19	20
B	B	D	B	C	C	A	D	C	D
21	22	23							
B	B	C							